



NAMA :

KELAS :





1. Lengkapilah huruf yang kurang dalam unsur dibawah ini

- \_ ar \_ on
- B \_ \_ on
- A \_ um \_ ni \_ m
- S \_ li \_ on
- \_ o \_ for
- Ni \_ \_ l





2. Cari dan beri garis pada 5 kata yang merupakan unsur kimia ?

R	H	K	A	L	S	I	U	M	B	E	R	R	F	D
A	I	B	E	B	A	S	T	R	I	L	I	U	R	U
D	D	O	N	S	N	A	T	R	I	U	M	B	A	B
I	R	K	A	L	I	U	M	K	H	A	S	I	N	N
U	O	N	I	O	B	I	U	M	S	E	N	D	S	I
M	G	A	Y	A	M	L	I	T	I	U	M	I	I	U
S	E	S	I	U	M	U	N	O	V	E	L	U	U	M
Y	N	T	I	T	A	N	I	U	M	F	I	M	M	O



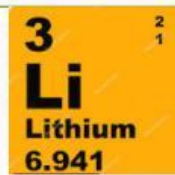
Beri tanda ceklis pada pernyataan yang benar mengenai unsur!

- ☐ Partikel terkecil yang tidak dapat dibagi lagi
- ☐ Zat tunggal yang terdiri dari atom-atom sejenis
- ☐ Zat yang terdiri dari atom-atom yang tidak sejenis
- ☐ Zat tunggal yang terdiri dari atom-atom dengan perbandingan yang tetap
- ☐ Tidak ada jawaban yang benar







Isilah pertanyaan dibawah ini dengan benar dan tepat



No atom:  
No massa:



No atom:  
No massa:



No atom:  
No massa:

Pasangkan lah model atom disamping



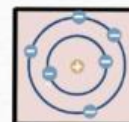
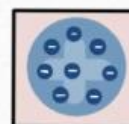
John Dalton

J.J Thomson

Erwin  
Schrodinger

Niels Bohr

E.Rutherford







TERIMA KASIH

