



















Запиши назви комірок, в яких
знаходяться об'єкти

10							
9							
8							
7							
6							
5							
4							
3							
2							
1							
	A	B	C	D	E	F	G

 (,)	 (,)	 (,)
 (,)	 (,)	 (,)

Розмісти об'єкти у відповідні комірки

5					
4					
3					
2					
1					
	A	B	C	D	E

	(E, 1)		(C, 5)		(D, 3)
	(A, 4)		(B, 2)		(E, 4)