

Nome: _____ Data: ____/____/____

MULTIPLICADOR COM DOIS ALGARISMOS

- Entenda as etapas da multiplicação:



$$\begin{array}{r} 253 \\ \times 54 \\ \hline \end{array}$$

	1	0	1	2
1	2	6	5	
1	3	6	6	2





4 unidades x 253 - 1º produto parcial


5 dezenas x 253 - 2º produto parcial

produto total

I- Efetue as operações:




$$\begin{array}{r} 364 \\ \times 35 \\ \hline \end{array}$$



$$\begin{array}{r} 473 \\ \times 62 \\ \hline \end{array}$$

$$\begin{array}{r} 328 \\ \times 83 \\ \hline \end{array}$$



$$\begin{array}{r} 271 \\ \times 97 \\ \hline \end{array}$$
