



EJERCICIOS NÚMEROS DEL 1 AL 50

Observa el video y contesta.



NOMBRE _____ GRUPO: _____

1. Coloca los números en el lugar que corresponda.



2. Une el número con su conjunto:


1




3



2






5



4



3. ¿Cuántos pollitos hay? Escribe el número debajo de cada imagen.




4. Cuenta los dedos y escribe el número según corresponda.

•																			
•																			
×																			
•																			
•																			
×																			
•																			
•																			
×																			

5. Elige el número de acuerdo con la imagen.

	1	5	3
	11	10	17
	12	21	2

6. Escribe los números que faltan para completar la serie.




7. Lee y elige "verdadero" o "falso".



Aquí hay 15 pingüinos.

VERDADERO


FALSO



Son 11 gallitos.

VERDADERO

FALSO






Han llegado 20 borregos.

VERDADERO


FALSO

8. Une con líneas de color el número con su conjunto. Ten en cuenta que te sobrará un número.



9. Aquí hay dos frascos con canicas, en uno hay 10 canicas y en otro hay 20.

¿Cuántas canicas debo poner al primer frasco para que los dos frascos tengan 20 canicas?




=







10.¿Qué números son los siguientes? Escribe su nombre.

2	
29	
6	
16	
30	
12	
17	

11. Une con una línea el número con el conjunto de galletas, manzanas y pollitos. Ten en cuenta que te sobrará un número.



12. ¿Cuántas naranjas faltan para completar 50?



Respuesta

13. ¿Qué números son los siguientes? Escribe su nombre.

14. Lee y escribe el número que corresponda:

Treinta y nueve

Cuarenta y nueve

