


LKPD

LEMBAR KERJA PESERTA DIDIK

MATEMATIKA

BANGUN DATAR



Identitas siswa:

Nama:

Kelas: 2 (Dua)



KERJAKAN SOAL PILIHAN GANDA DI BAWAH INI!

1. Nama bangun di bawah ini adalah...



- a. Persegi panjang
- b. Persegi
- c. Trapesium sama kaki

2. Bagun di bawah ini adalah bangun...



- a. Segilima
- b. Segiempat
- c. Segitiga

3. Berapa sisi yang dimiliki bangun di bawah ini...




- a. 3 sisi
- b. 4 sisi
- c. 5 sisi

4. Berapa sudut yang dimiliki bangun di bawah ini...



- a. 3 sudut
- b. 4 sudut
- c. 5 sudut



5. Berapa jumlah sisi dan sudut dari bangun di bawah ini...



- a. 3 sisi dan 3 sudut
- b. 5 sisi dan 5 sudut
- c. 4 sisi dan 4 sudut




Isilah kotak sesuai dengan nama bangun!





Jodohkan soal di bawah ini!




Nama
Sisi

☐ Persegi panjang

☐ Segitiga siku-siku

☐ Segitiga sama sisi

☐ segilima



Nama
Sisi

☐ 3 sisi

☐ 5 sisi

☐ 4 sisi



Nama
Sisi



Nama
Sisi