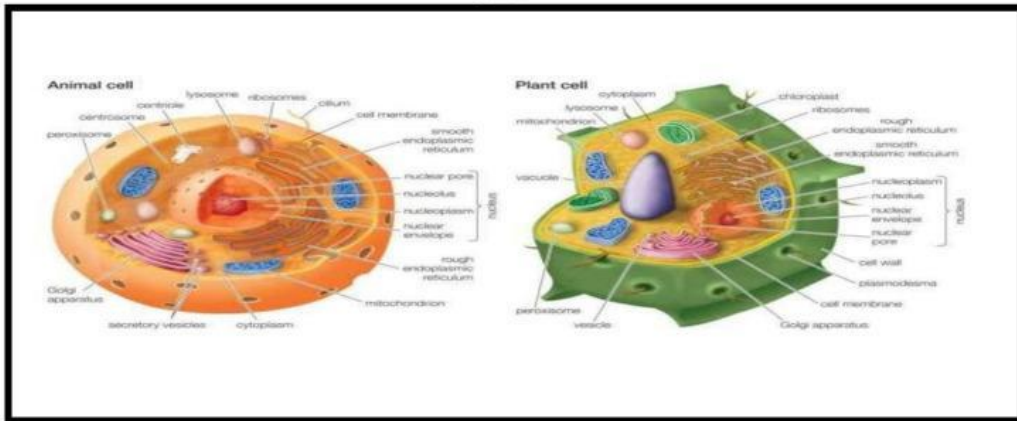


LEMBAR KERJA PESERTA DIDIK (LKPD) 1 SEL



TUJUAN

1. Menjelaskan struktur sel
2. Mengetahui organel-organel sel pada hewan dan tumbuhan

IDENTITAS

KELAS

NAMA KELOMPOK

AYO MENELAAH

Cobalah kalian amati gambar berikut



Gambar 1



gambar 2

Setelah mengamati gambar cobalah jawab pertanyaan berikut

1. Apakah kalian pernah melihat gambar diatas dalam kehidupan sehari-hari

2. Dapatkah kalian menyebutkan nama gambar di atas

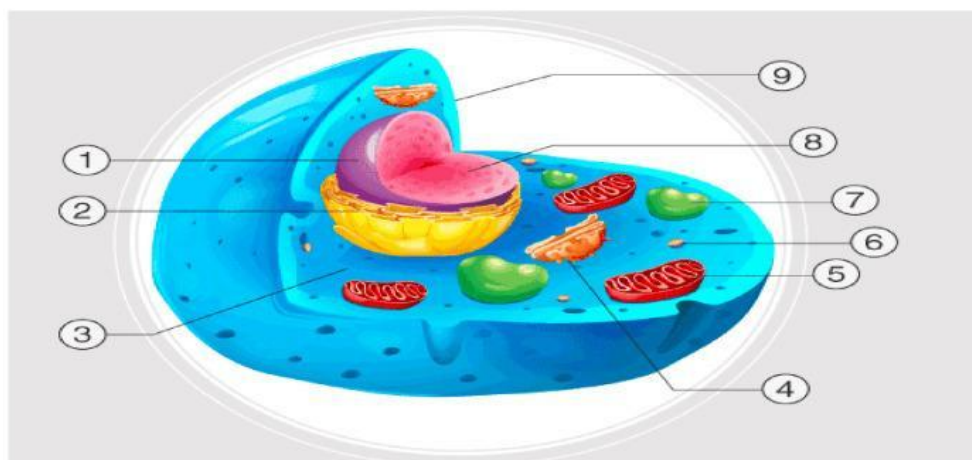
3. Apa yang kalian ketahui tentang sel

AYO SELIDIKI

Perhatikan Video

PERTANYAAN DAN BAHAN DISKUSI

PERHATIKAN GAMBAR DIBAWAH INI



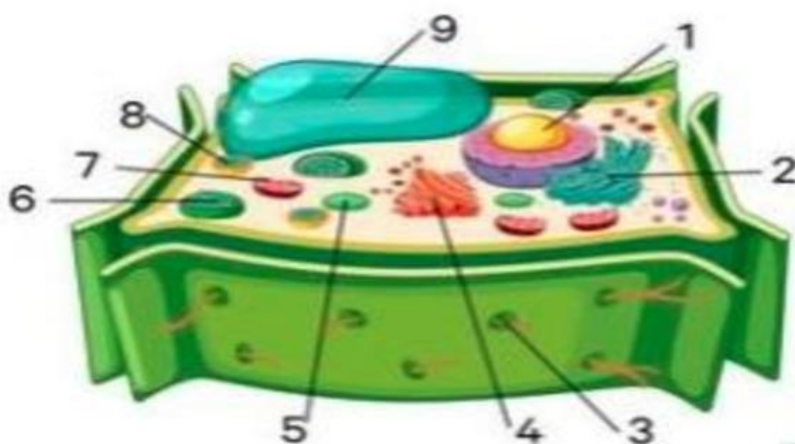
SEL HEWAN

SEBUTKAN NAMA BAGIAN-BAGIAN BESERTA FUNGSINYA

NO	BAGIAN	FUNGSI
1		
2		
3		
4		
5		
6		
7		
8		
9		

SEL TUMBUHAN

SEBUTKAN NAMA BAGIAN-BAGIAN BESERTA FUNGSINYA



NO	BAGIAN	FUNGSI
1		
2		
3		
4		
5		
6		
7		
8		
9		