



ESCUELA PARTICULAR MIXTA  
"REPÚBLICA DE TAIWÁN"  
2020-2021  
EXAMEN FINAL DE LÓGICO MATEMÁTICO  
PREPARATORIA



1.-Completa los números en la serie numérica del 1 al 30

1					6				
		13							
						27			
			34						
							48		
				55					60






ESCUELA PARTICULAR MIXTA  
"REPÚBLICA DE TAIWÁN"  
2020-2021



2.- Ubica el mayor que, menor que o igual que donde corresponda

10		17
37		14
55		55



3.- Resuelve las siguientes sumas



12	+	5	=	
20	+	10	=	
8	+	9	=	
5	+	4	=	



ESCUELA PARTICULAR MIXTA  
"REPÚBLICA DE TAIWÁN"  
2020-2021



4.- Completa la serie de los patrones



5.- Resuelve las siguientes restas y coloca el resultado correcto

$$\boxed{7} - \boxed{5} = \boxed{\phantom{00}}$$

**4**

$$\boxed{6} - \boxed{4} = \boxed{\phantom{00}}$$

**2**

$$\boxed{9} - \boxed{8} = \boxed{\phantom{00}}$$

**1**

$$\boxed{6} - \boxed{2} = \boxed{\phantom{00}}$$

**2**