



## EVALUACION II TRIMESTRE 2020-2021 GEOGRAFÍA

### INSTRUCCIONES:

1. Escribe dentro del paréntesis el inciso que señala el clima que predomina en cada región natural.

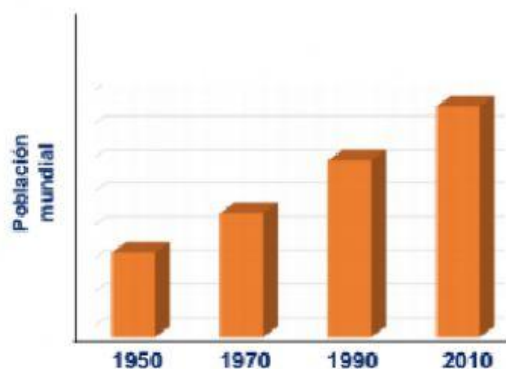
#### Regiones naturales

- ( ) Selva
- ( ) Bosque templado
- ( ) Desierto
- ( ) Tundra
- ( ) Bosque tropical

#### Climas

- (A) Polar
- (B) Tropical
- (C) Templado
- (D) Seco

2. Observa la siguiente gráfica y contesta las siguientes preguntas



¿La población mundial aumenta o disminuye?

\_\_\_\_\_

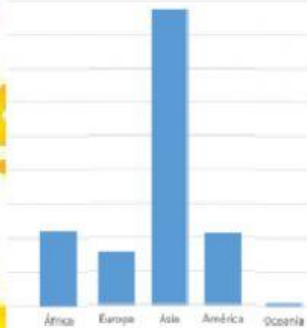
¿Cuales serán las causas del aumento de la población?

\_\_\_\_\_  
\_\_\_\_\_

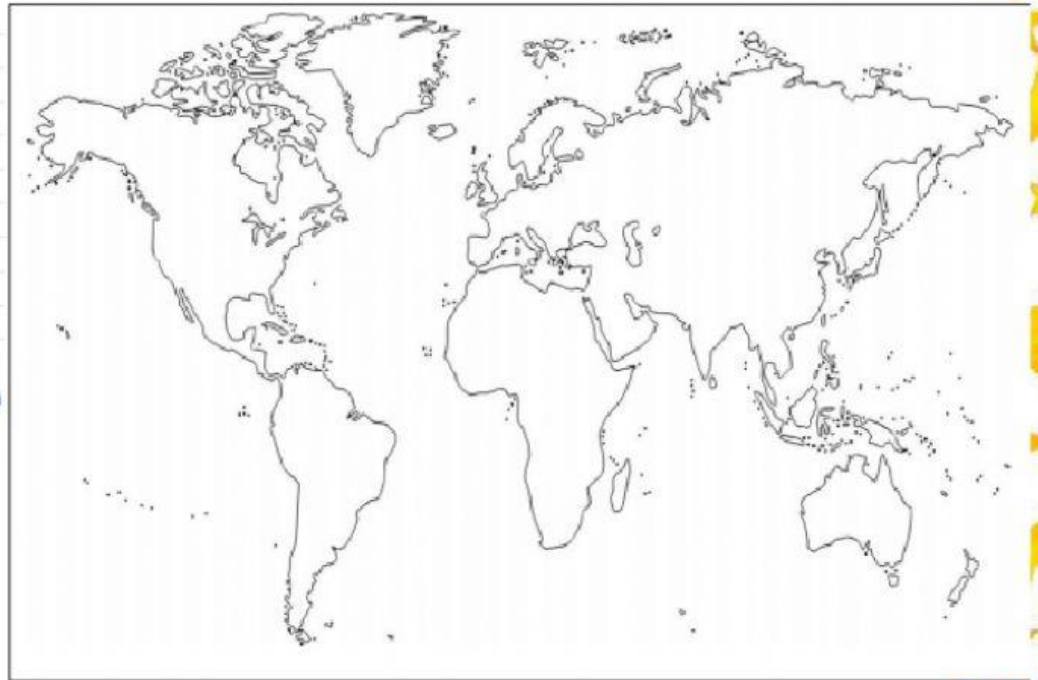
¿Qué problemas enfrenta el ser humano en general con el aumento de la población?

\_\_\_\_\_  
\_\_\_\_\_

3. Observa los datos de la gráfica y escribe los nombres de los continentes en el mapa, además ordénalos de MAYOR (1) a MENOR (5) según su porcentaje de población.



Distribución de la población mundial.



4. Arrastra los nombres de los aspectos que se ven afectados con el crecimiento de la población al término que correspondan.

Sociales

Naturales

Políticos

Culturales

Generalmente al crecer las ciudades aumentan las necesidades de bienes y servicios, muchos no encuentran trabajo, viviendas dignas y se crean cinturones de miseria. Por otra parte tampoco tienen acceso a salud y educación y aumenta la delincuencia.

Al llegar personas de otras regiones o de otros países se difunden las costumbres y las tradiciones y en ocasiones cambian, se modifican o se enriquecen. Si las personas se relacionan formando parejas se acelera el mestizaje.

Probablemente una de las pocas cosas buenas que trae el crecimiento de las ciudades es que aumenta el intercambio de conocimientos entre los grupos sociales, así como la necesidad de crear más escuelas y centros educativos de alto nivel.

Al crecer las ciudades en ocasiones invaden tierras de cultivo, talan bosques y se agotan los acuíferos provocando daños de medio ambiente.



5. Traza las líneas que indican las rutas de migración de los siguientes casos. Ten cuidado, ya que la línea tiene que salir del país expulsor y llegar al país receptor, de lo contrario la respuesta saldrá incorrecta.

- ↔ En Estados Unidos hay un aumento de inmigrantes que provienen de Latinoamérica y Asia, ya sea de México y Perú por motivos de trabajo o de China por oportunidades de educación.
- ↔ España sigue siendo una de las regiones con mayor crecimiento económico, por lo que tiene un alto porcentaje de migración. Hay presencia de migrantes de África y de América del Sur, por la falta de trabajo o persecución política.
- ↔ Los trabajadores de Rumania se desplazan por la falta de trabajo a países como Alemania, Francia y Bélgica, naciones productoras de petróleo.

