

LKPD

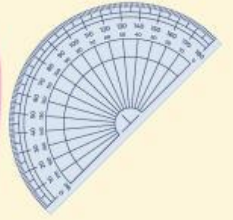
Matematika
Kelas V

SUDUT





Lembar Kerja Peserta Didik



Tujuan Pembelajaran

1. Siswa mampu memahami bagian-bagian sudut.
2. Siswa mampu menyebutkan Jenis-jenis Sudut.
3. Siswa mampu mengukur besar sudut dengan menggunakan busur derajat.
4. Siswa mampu menggambar sebuah sudut.

Petunjuk Pengerjaan LKPD

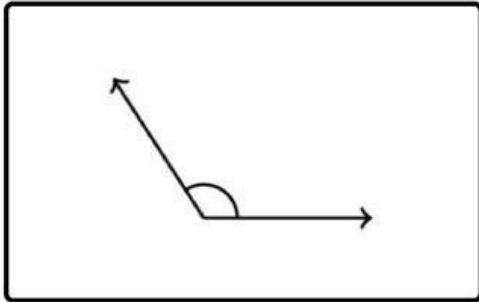
1. Berdoalah sebelum mulai mengerjakan LKPD
2. Tuliskan identitas pada kolom yang telah disediakan.
3. Perhatikan soal dengan seksama, sebelum menjawab.
4. Jawablah soal dengan baik dan benar.

Name: _____

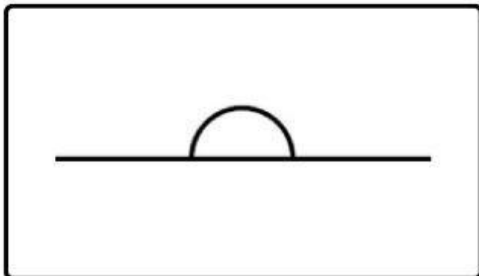
Kelas _____

Jenis-jenis Sudut

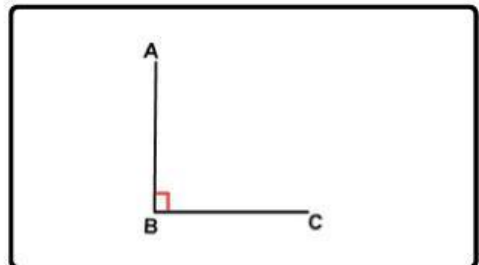
Perhatikan gambar di bawah ini, kemudian jodohkanlah gambar sesuai dengan jenis sudut yang tepat.!!



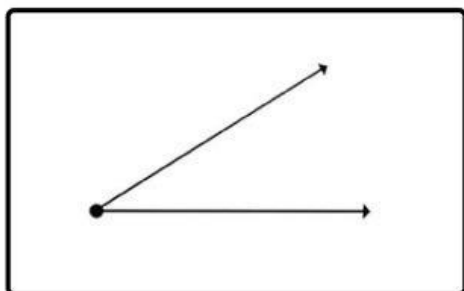
Lancip



Siku-siku



Tumpul



Lurus



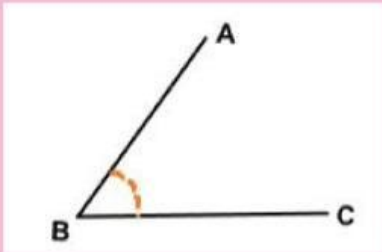
"Selamat Mengerjakan"





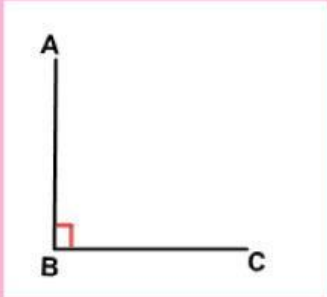
Menghitung Sudut

Hitunglah besar sudut pada setiap gambar sudut di bawah ini, kemudian tuliskan nama sudut berdasarkan besar setiap sudutnya!!



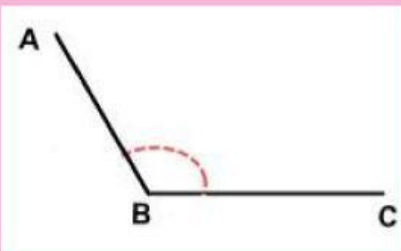
Nama Sudut:

Besar Sudut:



Nama Sudut:

Besar Sudut:



Nama Sudut:

Besar Sudut:

Perhatikan gambar jam di bawah ini kemudian hitunglah besar sudutnya!!



Pukul :

Nama Sudut:

Besar Sudut:



Pukul :

Nama Sudut:

Besar Sudut:



Pukul :

Nama Sudut:

Besar Sudut:





Menggambar Sudut

Gambarlah sudut berikut ini dengan benar dan jelas!!

90°



45°



100°

