


Lembar Kerja Peserta Didik

LKPD

BANGUN DATAR

Nama : _____

Kelas : _____



Jawablah soal berikut dengan baik dan benar.



1. keliling dari bangun persegi panjang di atas adalah

- a. 37 cm
- b. 74 cm
- c. 300 cm
- d. 148 cm

2. Jika bangun segi lima di atas setiap sisinya memiliki panjang 13 cm. Maka keliling dari bangun di atas adalah

- a. 18 cm
- b. 52 cm
- c. 169 c m
- d. 65 cm

3. Sebuah tiket kereta api berbentuk persegi panjang.

Panjangnya adalah 16 cm dan lebarnya adalah 10 cm. Maka keliling tiket kereta api tersebut adalah

- a. 26 cm
- b. 160 cm
- c. 52 cm
- d. 56 cm

4. Jika luas suatu persegi 4,41 m². Berapa sisi dari persegi dalam satuan cm....

- a. 11 cm
- b. 14 cm
- c. 21 cm
- d. 29 cm

5. Kaca depan sebuah mobil berbentuk persegi panjang. Panjangnya adalah 120 cm dan lebarnya adalah 50 cm.

Maka keliling kaca depan mobil tersebut adalah

- a. 170 cm
- b. 6.000 cm
- c. 240 cm
- d. 340 cm

MENGENAL BANGUN DATAR

Jawablah pertanyaan tentang bangun datar
dibawah dengan benar dan tepat !

①

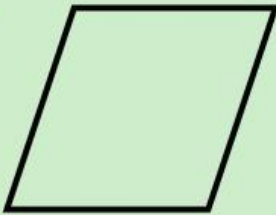


Nama bangun datar :

Banyak sisi :

Banyak titik sudut :

②

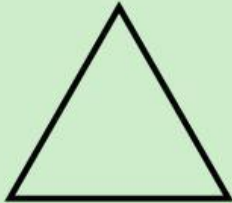


Nama bangun datar :

Banyak sisi :

Banyak titik sudut :

③

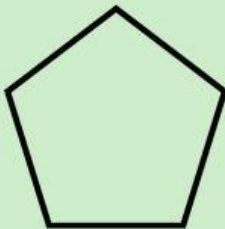


Nama bangun datar :

Banyak sisi :

Banyak titik sudut :

④

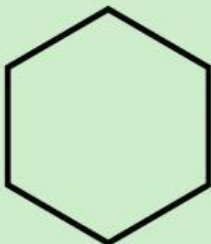


Nama bangun datar :

Banyak sisi :

Banyak titik sudut :

⑤



Nama bangun datar :

Banyak sisi :

Banyak titik sudut :