

LKPD

BANGUN DATAR

1. Perhatikan vidio berikut ini :



2. Perhatikan materi presentasi berikut ini :



Materi



Materi

LKPD

BANGUN DATAR

1

TEKSFIELD

Bangun datar segi empat yang keempat sisinya sama panjang dan keempat sudutnya siku-siku atau 90° adalah.....

2

SINGLE CHOICE

Berikut ini yang bukan merupakan bangun datar adalah.....

Pernyataan yang benar adalah.....

☐ Persegi memiliki empat sisi ☐ lingkaran memiliki 6 sisi ☐ segitiga memiliki 3 sisi

4

SELECT

Nama bangun datar dibawah ini adalah



☐ Persegi

☐ Segitiga

☐ Persegi panjang

☐ Lingkaran

5

WORD SEARCH

Temukan 3 kata pada kotak dibawah ini

S	S	I	S	I
M	U	L	I	N
O	S	D	K	T
D	K	C	U	K
U	G	X	M	T

6

SPEAK

Sebutkan nama bangun datar berikut ini dengan tepat!



7

LISTENING




Dengarkan suara berikut dan tuliskan jawabannya dengan tepat!



8

DRAG AND DROP


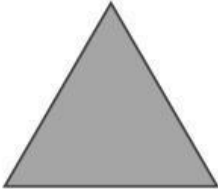

Tentukan rumus yang sesuai dengan gambar

	<input type="text"/>	<div><input type="text"/> <input type="text"/> <input type="text"/></div>
	<input type="text"/>	
	<input type="text"/>	

9

DRAG AND DROP

Buatlah garis ke jawaban yang benar

	<input type="text" value="Persegi Panjang"/>
	<input type="text" value="Lingkaran"/>
	<input type="text" value="Segitiga"/>