

Nombre: _____ Fecha de entrega: 8 de marzo de 2021

Deberes semanales



BLOQUE DE CÁLCULO

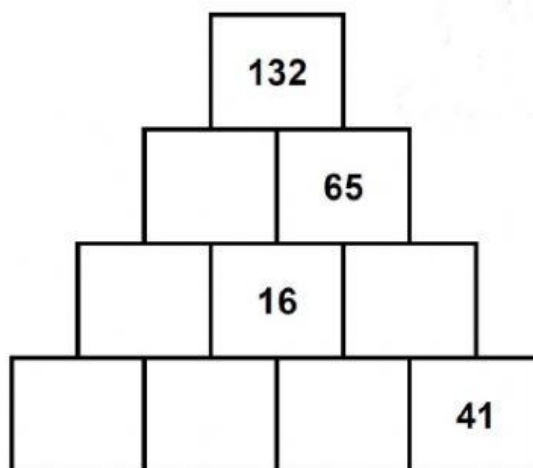
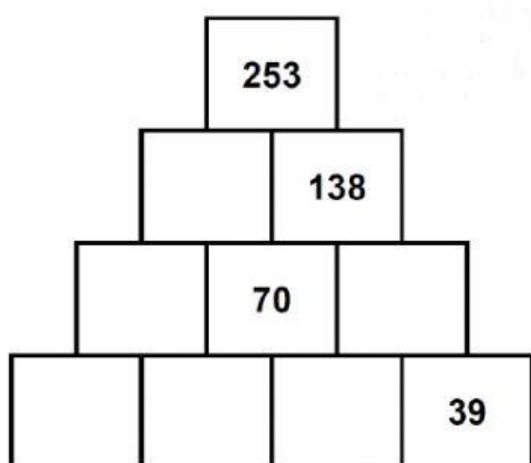
$$51.543 \overline{) 92}$$

$$58.976 \overline{) 3}$$


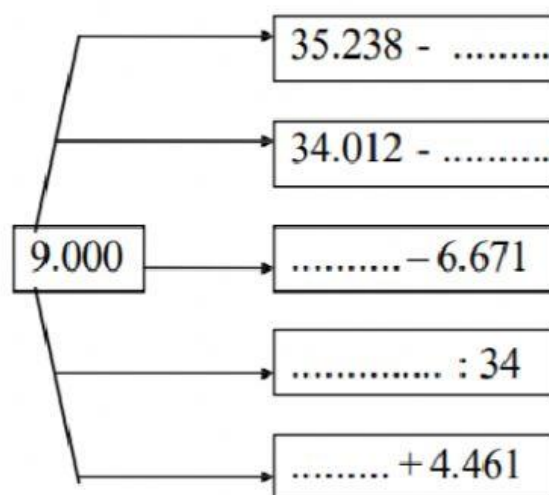
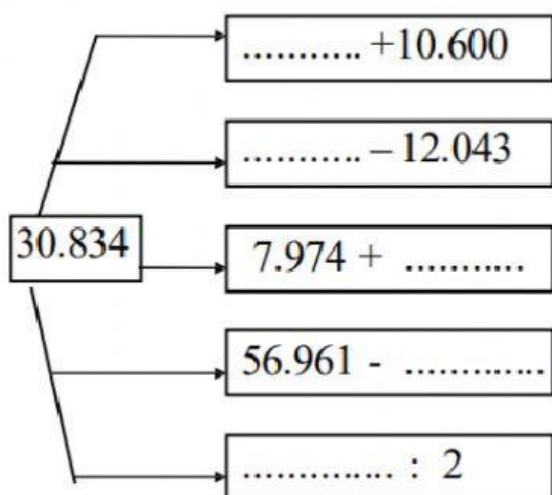
$$4.792 \times 5,7 =$$

$$5.097,4 \times 8,4 =$$

Resuelve las siguiente PIRÁMIDES SECRETAS:



Completa:



RETOS DE LA SEMANA

Completa la siguiente igualdad con las operaciones aritméticas básicas (+, -, x, :) y los paréntesis necesarios de forma que resulte cierta.

$$9\ 9\ 9\ 9\ 9 = 1.000$$

Nota: Si lo necesitas puedes juntar dos o más dígitos para formar un número de dos o más cifras, por ejemplo, 99.

Descubre el valor de cada una de las siguientes figuras para que las sumas sean correctas:

$$\square + \triangle + \bigcirc = 11$$

$$\square + \triangle = 7$$

$$\square + \bigcirc = 9$$

$$\square = \triangle = \bigcirc =$$

BLOQUE DE PROBLEMAS

1. El dueño de un bar compró 5 garrafas de licor de 7,5 litros cada una y una garrafa de agua. Si entre las 6 contenían 43 litros, ¿cuánta agua habrá en la garrafa?



2. ¿Cuántas semanas harán falta para que 25 gallinas pongan 5.475 huevos, si cada una pone 3 huevos por semana?
3. ¿Cuánto le falta al número 29,83 para convertirse en treinta y cinco unidades y ocho centésimas?
4. Una familia gasta en agua 72,40 euros cada cuatro meses, en luz 178 euros cada dos meses y 224, 60 euros en contribución cada 6 meses. ¿Cuál es el gasto anual de esta familia?