

LKPD

BANGUN DATAR

Perhatikan video berikut ini:



Perhatikan materi presentasi berikut ini:



Materi



Materi

LKPD

BANGUN DATAR

1 TEKS FIE

Bangun datar segi empat yang keempat sisinya sama panjang dan keempat sudutnya siku- siku atau 90° adalah...



2 SINGLE CHOICE

Berikut ini yang bukan merupakan bangun datar adalah...



3 CHECKBOXES

Pernyataan yang benar adalah...



Persegi memiliki 4 sisi




Lingkaran memiliki 6 sisi



Segitiga memiliki 3 sisi

4 SELECT

Nama bangun datar dibawah ini adalah...



Persegi



Segitiga



Persegi panjang



Lingkaran

5

WORD SEARCH


Temukan 3 kata pada kotak di bawah ini!

S	S	I	S	I
M	U	L	I	N
O	S	D	K	T
D	K	C	U	K
U	G	X	M	T

6

SPEAK


Sebutkan nama bangun datar berikut dengan tepat!



7

LISTENING

Dengarkan suara berikut dan tuliskan jawabannya dengan tepat!



8

LISTENING

Dengarkan suara berikut dan tuliskan jawabannya dengan tepat!

