

LKPD

BANGUN RUANG

Perhatikan video berikut ini!



Perhatikan materi berikut ini!



LKPD

BANGUN RUANG

1 Banyak rusuk pada kubus adalah

2 Banyak sisi pada limas segi empat adalah

3 Bangun yang tidak memiliki sudut adalah

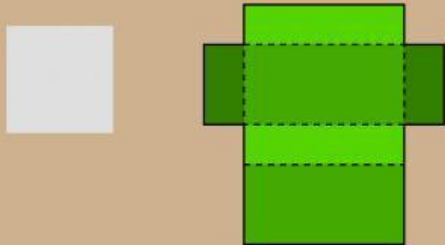
4 Alas dan tutup tabung berbentuk....

5 Banyak titik sudut pada prisma tegak segitiga adalah


LKPD

BANGUN RUANG

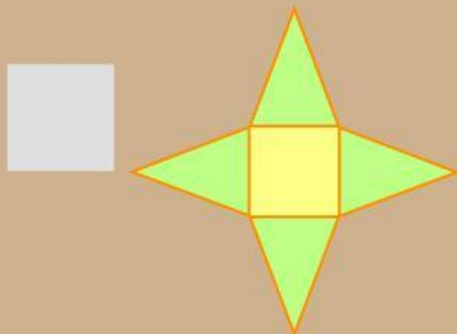
Berikut pernyataan yang benar adalah....



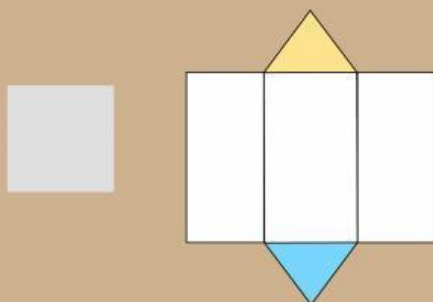
jaring-jaring prisma
tegak segitiga



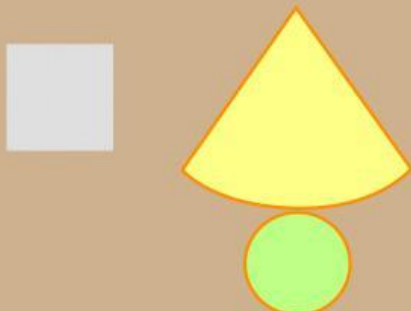
jaring-jaring kubus



jaring-jaring limas



jaring-jaring balok



jaring-jaring kerucut