

LKPD DIGITAL

SILAHKAN PILIH MATERI DALAM VIDEO, SLIDE ATAU TULISAN WEBSITE

VIDEO



SLIDE



WEBSITE



LATHAN SOAL

NAMA :

Kelas :

Petunjuk Soal :

1. Tulislah nama dan kelas di kolom yang sudah disediakan!
2. Kerjakanlah soal tentang tata surya di bawah ini dengan benar!

Textfield

1. Pusat tata surya adalah

Single Choice

2. Gerakan bumi berputar pada porosnya disebut

Checkboxes

3. Di bawah ini yang termasuk planet dalam adalah

Saturnus

Bumi

Venus

jupiter

Mars

Select

4. Satelit dari planet Mars adalah
 - a. Bulan
 - b. Phobos
 - c. Titan
 - d. Adrastea

Word Search

5. Carilah beberapa nama planet pada tabel dibawah ini

A	E	R	U	A	I
C	B	U	M	I	O
D	U	X	C	V	W
A	L	I	O	E	T
F	A	G	N	N	N
U	R	A	N	U	S
M	A	R	S	S	Y


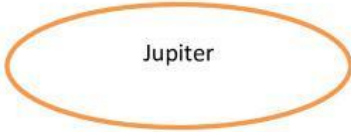


Drag n Drop

6. Letakkan ciri-ciri planet yang sesuai!

BUMI	Planet yang memiliki cincin
Saturnus	Planet merah
Mars	Planet yang ditempati manusia

Join

7. Pasangkan nama planet dengan gambarnya!

Listening

8. Dengarkan soal berikut dan tulis jawabannya



Speak

9. Sebutkan nama satelit dari planet di bawah ini!

