



# PENYAJIAN DATA

Kelas VIII .....



Nama Kelompok: \_\_\_\_\_

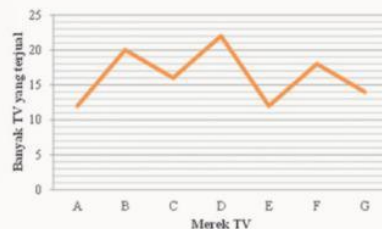
Nama Anggota: \_\_\_\_\_

Perhatikan video pembelajaran di bawah ini !



Pelajaran apa yang kalian dapat dari video di atas :

Diagram di bawah ini menunjukkan data penjualan beberapa jenis televisi di Toko Elektronik "Serba Ada" pada bulan Januari



1. Pada bulan tersebut, TV merk apa yang banyak terjual ?

- ☐ Merk TV - A
- ☐ Merk TV - B
- ☐ Merk TV - C
- ☐ Merk TV - D
- ☐ Merk TV - E
- ☐ Merk TV - F
- ☐ Merk TV - G

2. Berapa total TV yang terjual pada toko tersebut berdasarkan diagram di atas?

\_\_\_\_\_

\_\_\_\_\_

Perhatikan tabel Pengunjung Perpustakaan SMP "Bakti Bangsa" berikut ini !

Kelas	Bulan					
	Januari	Pebruari	Maret	April	Mei	Juni
VII	110	140	150	125	100	25
VIII	115	120	160	150	120	20
IX	140	140	200	175	75	0

1. Pada bulan apakah jumlah pengunjung perpustakaan kelas VII, VIII dan IX paling besar?
2. Pada bulan apakah jumlah pengunjung perpustakaan kelas VIII mengalami penurunan secara drastis?
3. Pada bulan apakah jumlah pengunjung perpustakaan kelas VII, VIII dan IX mencapai 365 pengunjung?
4. Pada bulan apakah jumlah pengunjung perpustakaan kelas VII mengalami peningkatan paling besar?

- A. Januari
- B. Juni
- C. Februari
- D. Maret

Dengarkan intruksi -> Klik 



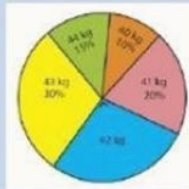



Diagram Lingkaran

Diagram Batang

Diagram Garis

Histogram

## Kegiatan 1

### Ayo Mengamati



Di SMP Negeri 1 Suboh diketahui data ukuran sepatu siswa kelas VIII B sebagai berikut:



Nama	Ukuran Sepatu	Nama	Ukuran Sepatu
Ana	36	Rio	42
Alin	37	Fajar	40
Meysa	37	Ichha	38
Dila	38	Bunga	39
Dafa	40	Reyhan	42
Salsha	38	Bintang	38
Bella	39	Hana	36
Viona	36	Serli	37
Rara	38	Rendi	42
Nisa	40	Radit	40
Fani	39	Galih	39
Lia	39	Wulan	38
Reka	40	Okta	37
Putri	38	Angga	38
Eva	37	Rani	38
Alma	36	Cici	39

Tabel 1. Data ukuran sepatu siswa kelas VIII B



## Ayo Berpikir

Perhatikan Tabel 1 diatas!

Diskusikanlah bersama kelompokmu!

Agar mudah dibuat dalam bentuk diagram batang, maka hitunglah berapa banyak siswa pada masing-masing ukuran sepatu pada tabel berikut:

Ukuran Sepatu	Banyak Siswa
36	4
37	.....
38	.....
39	.....
40	.....
42	.....



## Ayo Mencoba

Dari tabel tersebut, maka dapat diperoleh bahwa:

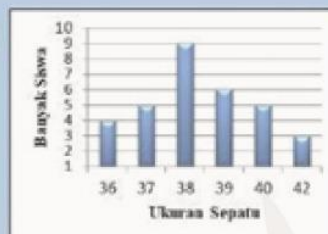
1. Banyak siswa kelas VIII B adalah .....
2. Nomor sepatu yang paling banyak digunakan siswa adalah .....
3. Nomor sepatu yang paling sedikit digunakan siswa adalah .....
4. Diagram batang yang sesuai dengan tabel diatas adalah:



A



B



C



D



## REFLEKSI

Emoji manakah yang menggambarkan perasaanmu setelah melakukan pembelajaran hari ini? Centang salah satu emoji pada kotak yang tersedia!


☐

☐

☐

☐