

UNIDAD EDUCATIVA XYZ
MATEMÁTICAS

Nombre: _____

Sume los valores correctamente y arrastre el valor que corresponde en cada suma



3

5

8

3



7

9

3

2

19

20

21

Responda correctamente Verdadero con una V y Falso con una F

El número 6 es un número impar

El número 3 es un número par

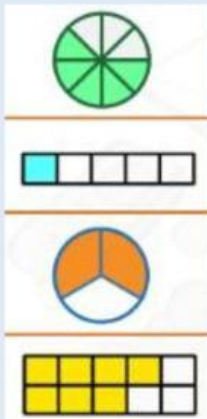
Escoja la respuesta correcta

>

<

=

Unir con línea correctamente



$\frac{2}{3}$




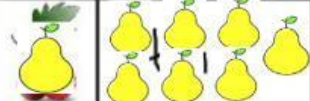
$\frac{1}{5}$

$\frac{7}{10}$

$\frac{5}{8}$

Dar clic en el micrófono e indicar cuáles son los números pares

Seleccionar la respuesta correcta,

	4	5
	3	2
	6	4
	8	9