






**Correspondencia ( Valor 5 pts.)****Puntos Obtenidos:** \_\_\_\_\_

**Indicaciones:** En la columna **A** se presentan usos de algunos elementos químicos, mientras que en la columna **B** se presentan los nombres de los elementos a los cuales corresponden esos usos. Relacione los usos con el respectivo nombre según corresponda, escribiendo dentro del paréntesis, la letra según corresponda. Las opciones **NO** se repiten. No sobran paréntesis. (1pto cada respuesta correcta).

| Columna A   |     | Columna B   |
|---|-----|-------------|
|    | ( ) | a) Cobre    |
|    | ( ) | b) Hierro   |
|   | ( ) | c) Helio    |
|  | ( ) | d) Zinc     |
|  | ( ) | e) Aluminio |

**Resolución de ejercicios (Valor 6 puntos)****Pts. Obt:** \_\_\_\_\_

Página 6 de 8