

















REALIZA LAS SIGUIENTES SUMAS SIN LLEVADAS, TE PUEDES AYUDAR DE LOS PUNTOS. ESCRIBE EL NUMERO DEBAJO DE LA RAYA

$\begin{array}{r} 5 \\ +3 \\ \hline \end{array}$  	$\begin{array}{r} 8 \\ +2 \\ \hline \end{array}$  	$\begin{array}{r} 4 \\ +3 \\ \hline \end{array}$  
$\begin{array}{r} 3 \\ +3 \\ \hline \end{array}$  	$\begin{array}{r} 5 \\ +2 \\ \hline \end{array}$  	$\begin{array}{r} 6 \\ +4 \\ \hline \end{array}$  
$\begin{array}{r} 7 \\ +2 \\ \hline \end{array}$  	$\begin{array}{r} 3 \\ +2 \\ \hline \end{array}$  	$\begin{array}{r} 5 \\ +5 \\ \hline \end{array}$ 