














FICHA INTERACTIVA MATEMÁTICA – 2ºB

Situaciones problemáticas en el uso del dinero

- ✚ Selecciona las monedas y billetes exactos que necesita cada niño para realizar la compra.

 <p>Voy a comprar una muñeca</p>	 <p>S/. 19</p>	
 <p>Voy a comprar el tren</p>	 <p>S/. 48</p>	
 <p>Voy a comprar el avión</p>	 <p>S/. 31</p>	
 <p>Voy a comprar un televisor</p>	 <p>S/. 342</p>	

✚ Observa cuánto dinero hay en cada recuadro y escribe el valor que le corresponde:

 <p>Tengo S/.</p>	 <p>Tengo S/.</p>
 <p>Tengo S/.</p>	 <p>Tengo S/.</p>

✚ COLOREA las monedas que necesitas para obtener:

a. 10 nuevos soles.



b. 6 nuevos soles.



✚ **RELACIONA**, cada objeto con el dinero que necesito comprarlo:

	28 soles
	17 soles Con 20 céntimos
	1 soles Con 20 céntimos
	75 soles

✚ **¿Cuántas monedas y billetes necesitas para canjear estos S/. 100 nuevos soles?**

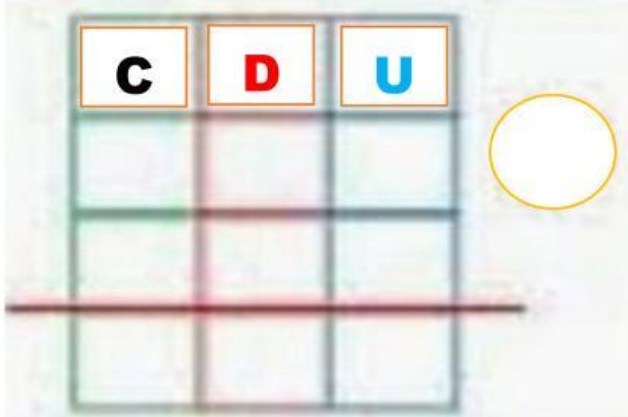
BILLETES Y MONEDAS	CANJE
	<input type="text"/> Billetes.
	<input type="text"/> Billetes.
	<input type="text"/> Billetes.
	<input type="text"/> Monedas.

PROBLEMAS CON SUSTRACCIONES CON MONEDAS Y BILLETES

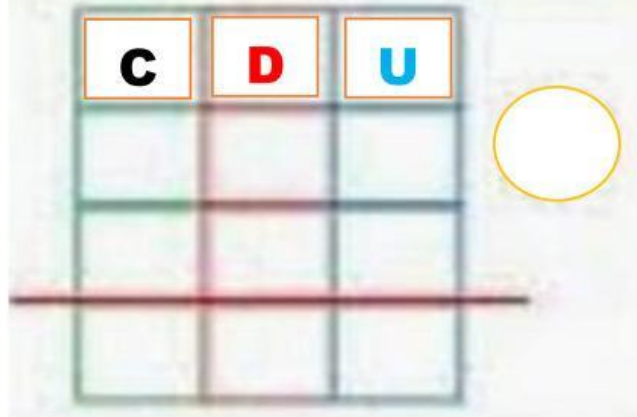
✚ Observa la lista de precios de los juguetes luego resuelve de los siguientes problemas:

				
S/. 6	S/. 9	S/. 34	S/. 20	S/. 35

A. Quiero comprar un avión de juguete y tengo ahorrado S/. 27 ¿Cuánto me falta para completar el costo?

DATOS	OPERACIÓN
<p>→ Costo del avión S/. <input type="text"/></p> <p>→ Ahorré S/. <input type="text"/></p> <p>→ Me falta S/.?</p>	
<p>RESPUESTA: Me falta para completar: S/. <input type="text"/></p>	

B. Zoe compró un carrito. Ella pagó con un cheque de S/. 50 ¿Cuánto recibe de vuelto?

DATOS	OPERACIÓN
→ Costo del carrito S/. <input type="text"/>	
→ Apagó con S/. <input type="text"/>	
→ Recibí de vuelto S/.?	
RESPUESTA: Recibo de vuelto: S/. <input type="text"/>	