

Língua Portuguesa**ORTOGRAFIA**

← Clique no ícone do som para ouvir

É conjunto de regras estabelecidas pela gramática que ensina a grafia (escrita) correta das palavras, o uso de sinais gráficos que destacam vogais tônicas, abertas ou fechadas, processos fonológicos como a crase, os sinais de pontuação, etc.

O Alfabeto

O alfabeto da língua portuguesa é formado por 26 letras. Cada letra apresenta uma forma minúscula e outra maiúscula. Veja:

a A (á)	j J (jota)	s S (esse)
b B (bê)	k K (cá)	t T (tê)
c C (cê)	l L (ele)	u U (u)
d D (dê)	m M (eme)	v V (vê)
e E (é)	n N (ene)	w W (dáblio)
f F (efe)	o O (ó)	x X (xis)
g G (gê ou guê)	p P (pê)	y Y (ípsilon)
h H (agá)	q Q (quê)	z Z (zê)
i I (i)	r R (erre)	

A letra k é uma consoante e tem o som de C (como em "casa") ou som de QU (como em "Ketchup").

A letra W depende da pronúncia. Ela pode ser vogal ou consoante. Vogal quando o seu som for de U, como em Wilian, show... Consoante quando o seu som for de V (como em Walter, Wagner...).

Y é uma vogal nos seguintes casos: chantilly, motoboy, byte...

Em casos raros o Y tem som de J como em Yaci (Jaci) Portanto, as letras são o som que representam. Devemos analisar antes de classificá-las.



← Clique no ícone do som para ouvir

K	W	Y



A lista de compras

• FAÇA SUA LISTA DE COMPRAS, SEPARANDO AS COISAS.

MAÇÃ SABONETE ARROZ SABÃO EM PÓ BATATA LÁPIS,
 ESPONJA PASTA DE DENTES RÉGUA PÃO BORRACHA
 PAPEL HIGIÊNICO CANETA CARNE CADERNO FEIJÃO COLA
 MAMÃO AMACIANTE APONTADOR FRANGO GUACHE ÁGUA
 SANITÁRIA ÁLCOOL BANANA PINCEL BOLACHA

ALIMENTOS	MATERIAL DE LIMPEZA	MATERIAIS ESCOLARES

Forme frases com as palavras abaixo:

amaciante

bolacha

frango

banana

sabonete

caderno

maçã



← Clique no ícone do som para ouvir



VAMOS FAZER UMA LISTA
DE
COMIDAS ?

1- _____

2- _____

3- _____

4- _____

5- _____

6- _____

7- _____

8- _____

9- _____

10- _____

amarelo	beterraba	careta	ferrugem	rinoceronte
amora	bezerro	carrapato	forró	serrote
aranha	cachorro	carroça	garota	tesoura
barato	cadeira	eskorregador	girafa	tourada
barraca	camarão	ferradura	jarra	toiro
barriga	caramujo	ferro	macaronada	travesseiro
barrigudo	caranguejo	ferroada	marreco	verruga

2) Procure, no caça-palavras, as palavras que você coloriu acima:

U	P	L	Á	R	V	O	R	E	Z	Â	O	A	D	O
E	X	C	V	A	D	A	N	O	R	R	A	C	A	M
S	E	R	A	M	O	R	A	E	L	O	S	I	E	A
C	M	C	R	E	S	C	T	E	S	O	U	R	A	Z
O	G	A	A	I	A	Q	Ç	A	T	Y	C	C	N	E
R	O	C	N	B	N	F	E	R	R	O	A	D	A	O
R	R	N	H	A	R	R	N	A	Y	U	M	R	I	T
E	D	R	A	L	E	M	Ç	O	S	W	A	E	N	A
G	U	O	Z	U	Ç	I	E	L	E	V	R	D	O	R
A	R	R	X	B	A	R	R	A	C	A	Ã	A	R	A
D	A	R	T	D	E	A	T	O	U	R	O	E	N	B
O	A	C	F	I	R	M	E	Z	A	B	S	U	L	Q
R	B	C	A	R	A	N	G	U	E	J	O	T	C	W
T	O	M	A	R	Ç	V	E	R	D	U	R	A	O	E
Z	X	C	R	I	N	O	C	E	R	O	N	T	E	K



Matemática

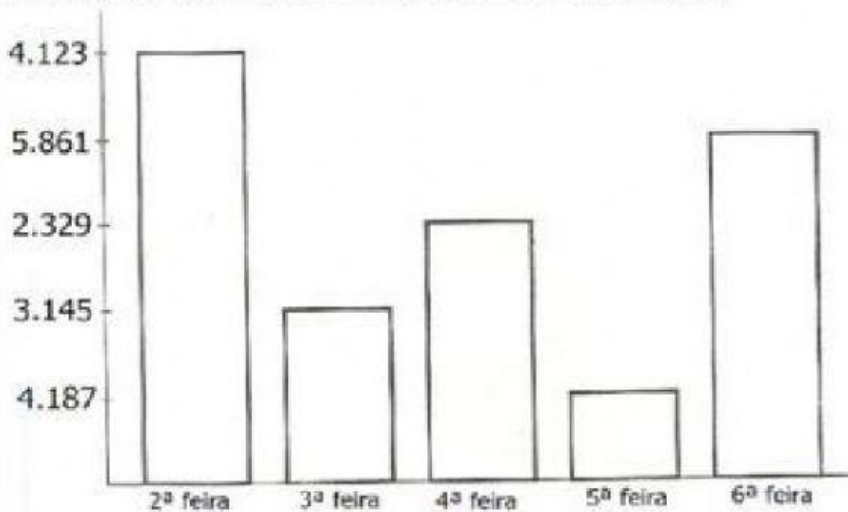
Estatística é a ciência da coleta, descrição e análise de dados.

Analisando o gráfico




Gráfico de 

Observe no gráfico de uma fábrica de doces a quantidade vendida em uma semana e responda.



- 1 – Quantos doces foram vendidos nos três primeiros dias da semana? _____.
- 2 – Qual dia da semana foi vendido mais doces? _____.
- 3 – E menos doces? _____.
- 4 – Quantos doces ao todo foram vendidos nesta semana? _____.
- 5 – Na semana anterior foi vendido o dobro desta quantidade. Quantos doces foram vendidos? _____.
- 6 – Qual a diferença de quantidade de doces entre segunda-feira e quarta-feira? _____.
- 7 – Quais dias juntos, foram vendidos mais doces: segunda e terça ou quarta e sexta? _____.

1) Observe o gráfico de brinquedos de José. Cada barra corresponde a um brinquedo.



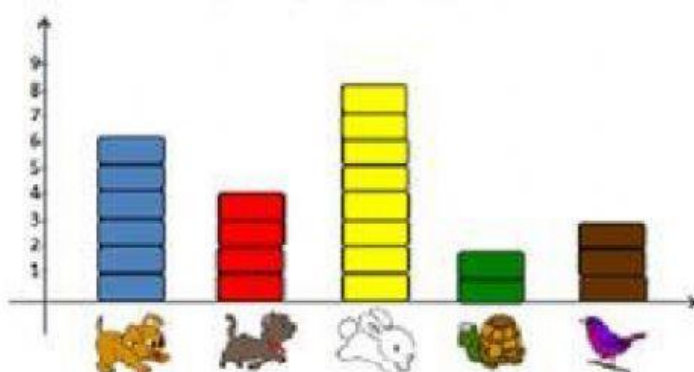
a) Quantas bolas José tem?.....

b) Quantos carrinhos?.....

c) Quantos jogos?.....

2º) Aline fez uma pesquisa na turma W sobre o animal preferido de cada criança. Observe o resultado e responda.

GRÁFICO: ANIMAL PREFERIDO DA TURMA W



a) Quantas preferem cachorros?.....

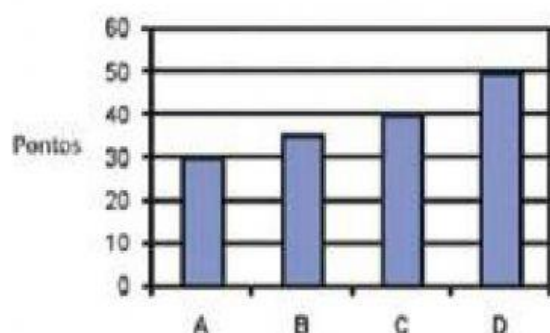
b) Quantas preferem gato?.....

c) Quantas preferem coelho?.....

d) Quantas preferem tartaruga?.....

e) Quantas preferem pássaros?.....

3º) Observe o gráfico com o resultado da pontuação dos times e responda.



a) Que time fez mais pontos?

A() B() C() D()

b) Que time fez menos pontos?

A() B() C() D()

c) Que time fez 40 pontos?