





LEMBAR KERJA PESERTA DIDIK

BANGUN RUANG

Nama:

Kelas:



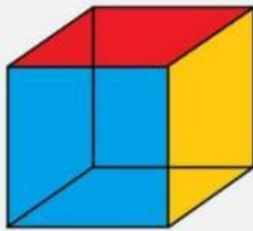


Tontonlah video di bawah
untuk mengetahui
barisan dan deret
bilangan



A. Pilihlah salah satu jawaban a, b, C, atau d yang paling tepat!

1. Perhatikan bangun ruang dibawah ini



Volume bangun ruang tersebut adalah...

a. 9 kubus satuan

c. 18 kubus satuan

b. 12 kubus satuan

d. 20 kubus satuan

2. Sebuah balok memiliki panjang 40 cm, lebar 20 cm volume 24 liter, berapakah tinggi balok ter adalah....

a. 20 cm

c. 50 cm

b. 30 cm

d. 40 cm

3. Fida akan membuat kerangka balok berukuran 12 cm x 8 cm x 6 cm. Jika disediakan kawat yang panjangnya 1,5 m maka sisa kawat adalah....

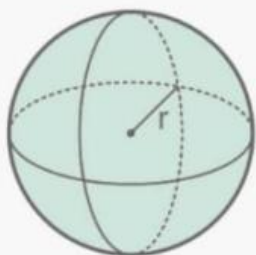
a. 104 cm

b. 36 cm

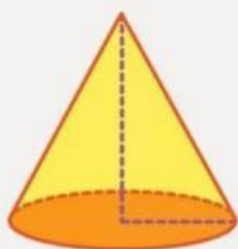
b. 56 cm

c. 46 cm

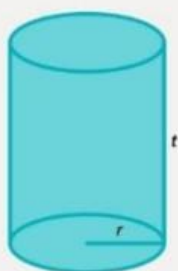
B. Jodohkanlah bangun ruang di bawah ini dengan benar!



Balok



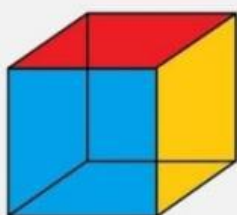
Kubus



Tabung



Kerucut



Bola