




Examen Segundo Trimestre, Matemáticas.

Primer Grado



Nombre del alumno(a): _____

1. Acomoda los arboles del más alto al más bajo.




--	--	--	--	--

2. Acomoda los arboles del más delgado al más grueso.





3. Cuenta los bloques para medir cada objeto. Escribe el número en el cuadro.



4. Escribe cerca o lejos según sea el caso.



La rana esta _____ del perro.

El rinoceronte aparece _____ de la jirafa.

La rana esta _____ del rinoceronte.



5. Escribe los meses que faltan.

_____ Marzo _____

_____ Diciembre _____

_____ Septiembre _____

_____ Abril _____

6. Observa el calendario y contesta lo que se te solicita.

Mayo 2020						
Lunes	Martes	Miércoles	Jueves	Viernes	Sábado	Domingo
				1	2	3
4	5	6	7	8	9	10
11	12	13	14	15	16	17
18	19	20	21	22	23	24
25	26	27	28	29	30	31

¿Cuánto días tiene Mayo? _____

Si hoy es día 5, y el cumpleaños de mi hermana es el 18 ¿Cuántos días faltan? _____

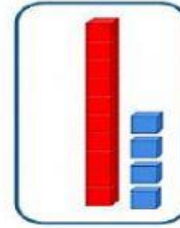
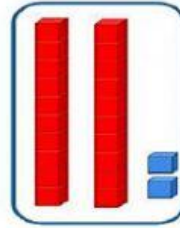

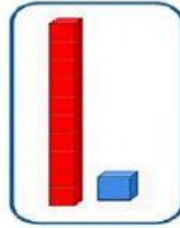

7. Observa las unidades y decenas, escribe cuántas decenas y unidades hay.

DECENAS	UNIDADES	DECENAS	UNIDADES

DECENAS	UNIDADES	DECENAS	UNIDADES



Une con una línea la cantidad que representa.



11

13

22

14

5

8. Relaciona cada número con la cantidad de decenas que tiene.

Número

Decenas.

67

5

96

6

73

7

56

9

9. Ordena los objetos del 1 al 5 del menos pesado al más pesado.





10. Relaciona cada figura con su nombre.



TRIÁNGULO



ROMBO



CÍRCULO



RECTÁNGULO



ÓVALO



CUADRADO

11. Ordena los recipientes al que le cabe menos al que le cabe más.



1	2	3	4	5
---	---	---	---	---

Material de Mundo ABC