

Тиждень 25.

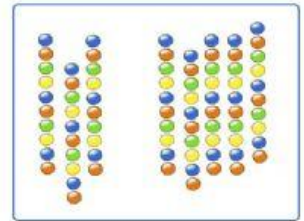
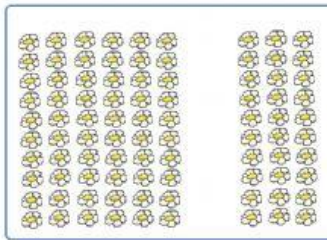

(ім'я) _____



Порівняй числа, подані одиницями; десятками.

$1 \bigcirc 4$	$8 \bigcirc 5$	$6 \bigcirc 3$	$2 \bigcirc 5$
$1 \text{ д.} \bigcirc 4 \text{ д.}$	$8 \text{ д.} \bigcirc 5 \text{ д.}$	$6 \text{ д.} \bigcirc 3 \text{ д.}$	$2 \text{ д.} \bigcirc 5 \text{ д.}$
$10 \bigcirc 40$	$80 \bigcirc 50$	$60 \bigcirc 30$	$20 \bigcirc 50$

Роздивись малюнки. Добери до кожного відповідну нерівність.



$60 > 30$

$20 < 40$

$8 > 7$

$30 < 50$



Заповни таблицю.

Зменшуване	9		10	9		8		7	10		5	4	10
Від'ємник		5		8	1		3			4	4		
Різниця	3	2	1		7	4	5	2	10	3		2	1



Запиши число за зразком.

3 д. = 30	8 д. =	7 д. =
1 д. =	10 д. =	9 д. =
5 д. =	6 д. =	1 д. і 1 од. =
4 д. =	2 д. =	1 д. і 2 од. =