

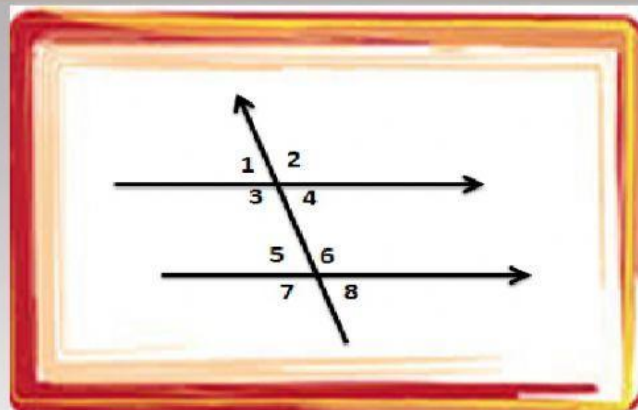
## LKPD GARIS DAN SUDUT

NAMA

KELAS

Berikut materi untuk Garis dan Sudut

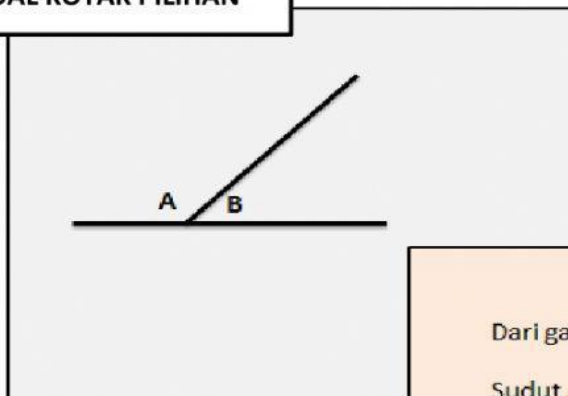
### SOAL PILIHAN GANDA



Pernyataan yang benar dari gambar di atas adalah ...

- a.  $\angle 1$  sehadap  $\angle 2$
- b.  $\angle 2$  sehadap  $\angle 7$
- c.  $\angle 3$  sehadap  $\angle 5$
- d.  $\angle 4$  sehadap  $\angle 8$

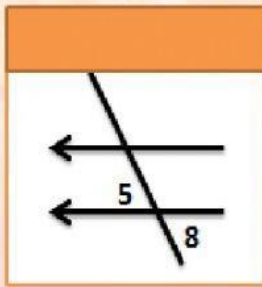
### SOAL KOTAK PILIHAN



Dari gambar diatas

Sudut A + Sudut B =

### SOAL MENEMPELKAN



BERPELURUS

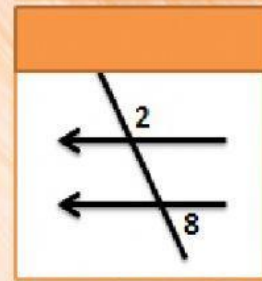
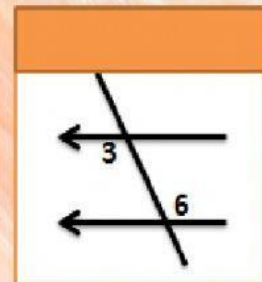
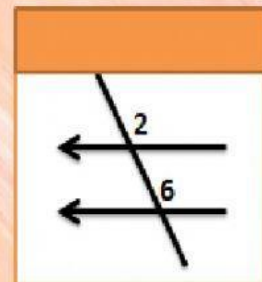
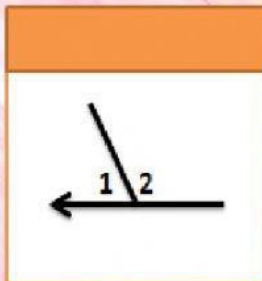
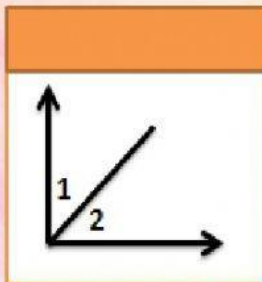
SUDUT SEHADAP

BERSEBRANGAN

BERPENYIKU

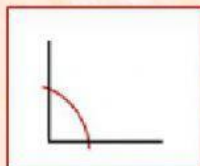
BERTOLAK  
BELAKANG

SUDUT SEPIHAK

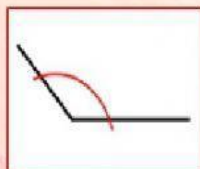


### SOA MENJODOHKAN

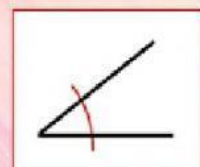
Buat garis untuk memasangkan gambar yang sesuai dengan keterangannya



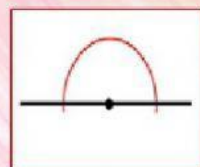
**SUDUT LANCIP**



**SUDUT SIKU-SIKU**

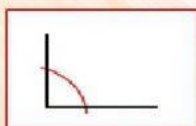


**SUDUT LURUS**

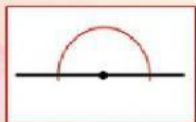


**SUDUT TUMPUL**

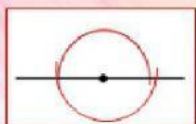
### SOAL ISIAN SINGKAT



1. Besar sudut dari gambar di samping adalah

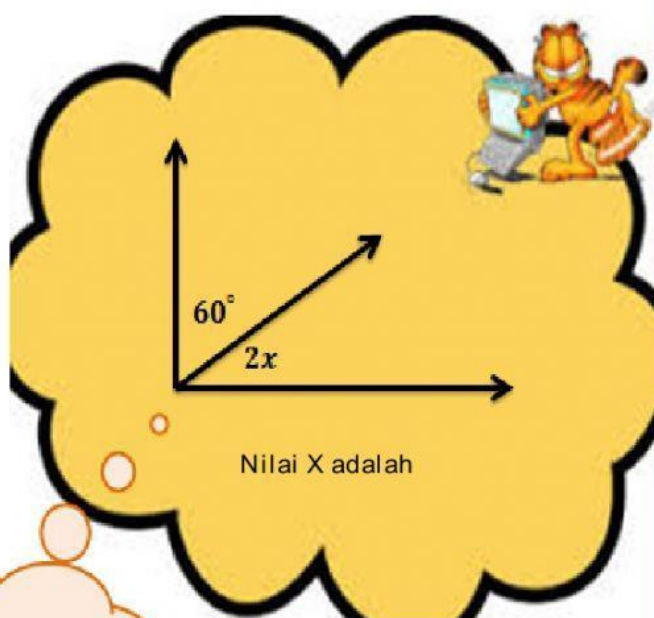


2. Besar sudut dari gambar di samping adalah



3. Besar sudut dari gambar di samping adalah

### SOAL ESSAY



JAWABAN