

المُضطلحات


أختار المُضطلح المناسب من الصندوق، وأكتبه في الفراغ المناسب.

- | | |
|-------------|-------------|
| • دَائِرَةٌ | • خَماسِيٌّ |
| • سِداسِيٌّ | • مُثَلَّثٌ |

1. الشُّكْلُ الَّذِي لَهُ 6 أَضْلاعٍ يُسَمَّى _____ .
2. الشُّكْلُ الَّذِي لَهُ 3 أَضْلاعٍ يُسَمَّى _____ .
3. الشُّكْلُ الَّذِي لَهُ 5 أَضْلاعٍ يُسَمَّى _____ .

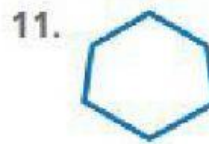

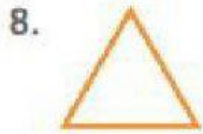
تَسْمِيَةُ الأشْكالِ

أَسْمِي كُلَّ شَكْلٍ .



الأشْكال

في التمارين 8-11، أكتب عدد رؤوس كل شكلٍ.



12. ما عدد أوجه المكعب؟

(A) 3

(B) 4

(C) 5

(D) 6