



PEMERINTAH KABUPATEN SINJAI
DINAS PENDIDIKAN

SD NEGERI 69 BALANG-BALANG KEC. SINJAI BARAT

Alamat :Jln. Balakia NO.A18 Kel. Balakia, Kec. Sinjai Barat Kab. Sinjai ✉ 92653

SOAL PENILAIAN AKHIR TAHUN (PAT)

Tema : 9. Benda-Benda Di Sekitar Kita
Kelas/ Smt : V (Lima)/ Genap
Tahun Pelajaran: 2023/2024

Nama Siswa :

Mapel	No. Soal	Nilai	Ketuntasan	TTD Guru	TTD Orang Tua
PPKn	1,5,13,17				
Bhs.Indonesia	6,9,14,18				
IPA	2,7,10,19				
IPS	3,11,15,20				
SBdP	4,8,12,16				

A. PILIHAN GANDA

Jawablah pertanyaan di bawah ini dengan memberi tanda silang (×) pada pilihan jawaban yang paling benar!

1. Perhatikan gambar berikut!



A



B



C



D

Berdasarkan gambar di atas, yang bukan merupakan sikap untuk menjaga persatuan dan kesatuan dalam keberagaman masyarakat adalah ...

- A. gambar A
B. gambar B
C. gambar C
D. gambar D

2. Perhatikan tabel berikut!

No	Benda
1	Sirup
2	Garam
3	Kecap
4	Gula

Dari daftar benda di samping, yang termasuk zat campuran adalah

- A. 1 dan 4
B. 2 dan 3
C. 1 dan 3
D. 2 dan 4


3. Perhatikan gambar berikut!



Kegiatan ekonomi yang tampak pada gambar di samping adalah ...

- A. produksi
B. distribusi
C. konsumsi
D. produsen

4. Perhatikan gambar berikut!



Berdasarkan gambar di atas, pola lantai pada gerak tari tersebut adalah ...

- A. vertikal
B. diagonal
C. melengkung
D. horizontal

B. PILIHAN GANDA KOMPLEKS

5. Perhatikan pernyataan berikut!

- (i) Membersihkan lingkungan bersama-sama.
 - (ii) Tidak pernah ikut serta dalam membersihkan lingkungan.
 - (iii) Menghormati perbedaan (agama, suku, daerah, adat dan kebudayaan) dalam masyarakat.
 - (iv) Bermain dengan teman yang memiliki persamaan suku, agama, ras ataupun daerah.
- Berdasarkan pernyataan di atas manakah yang termasuk contoh perilaku yang mencerminkan persatuan dan kesatuan? Beri tanda centang (✓) pada kolom benar atau salah!

Pernyataan	Benar	Salah
(i)		
(ii)		
(iii)		
(iv)		

6. Perhatikan pernyataan di bawah ini!

- (i) Mempengaruhi khalayak ramai tentang suatu produk barang atau jasa.
 - (ii) Menyarankan masyarakat untuk membeli sebanyak-banyaknya.
 - (iii) Mengajak masyarakat untuk tidak menggunakan produk orang lain.
 - (iv) Menyarankan seseorang untuk membeli dan menggunakan suatu produk jasa.
- Berdasarkan pernyataan di atas, manakah yang merupakan tujuan iklan? Berilah tanda Centang (✓) Benar atau Salah pada pernyataan di bawah ini!

Pernyataan	Benar	Salah
(i)		
(ii)		
(iii)		
(iv)		

7. Perhatikan beberapa pernyataan berikut!

- (i) Air dicampur dengan minyak adalah contoh campuran homogen
- (ii) Air dicampur dengan kopi adalah contoh campuran homogen
- (iii) Air dicampur pewarna makanan adalah contoh campuran homogen
- (iv) Air dicampur gula adalah contoh campuran homogen

Dari pernyataan di atas, manakah pernyataan yang benar terkait contoh campuran homogen, Berilah tanda centang (✓) pada kolom Benar atau Salah!

Pernyataan	Benar	Salah
(i)		
(ii)		
(iii)		
(iv)		

8. Perhatikan teks lagu berikut!

GURU BUNGA

Be-tapa ha-ti ku tak kan rin-du telah gu-gur pahlawan ku
 a pa kini pe lipur lara nan seti a dan per-wi ra
 Be-tapa ha-ti ku tak akan se-dih hamba ditinggal sendir ri Si
 Si a pa kah kini pahlawan hati pembela bang-sa
 Te lah gu-gur pahlawanku, tu nai su dah jan-ti
 Gu gur satu tumbuh seribu Ta nah a ir ja ya pas-ti
 Gu gur bungaku ditaman bak-ti di hati bu-an Per-ti wt
 Ha-rum semerbak menambahkan sari Tanah a ir ja ya sak-ti

Berdasarkan teks lagu di samping, berilah tanda centang (✓) pada kolom benar atau salah yang sesuai dengan pernyataan!

Pernyataan	Benar	Salah
Lagu bersifat sedih dan kurang bersemangat		
Diciptakan oleh Ibu Sud		
Melodi lagu biasanya diawali atau diakhiri dengan nada La		
Riang gembira		

C. MENJODOHKAN

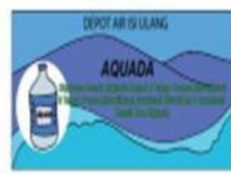
9. Perhatikan gambar berikut!



Gambar A



Gambar B



Gambar C



Gambar D

Berdasarkan gambar di atas, pasangkan antara gambar dengan informasi iklan yang sesuai dengan menarik garis penghubung yang tepat!

Gambar	
A	●
B	●
C	●
D	●

informasi Iklan	
●	Iklan tentang depot air minum isi ulang
●	Iklan tentang alat untuk mensterilkan air minum
●	Iklan tentang penawaran mobil
●	Iklan layanan masyarakat tentang asap rokok

10. Perhatikan beberapa jenis materi berikut!

(i) Unsur

(iii) Campuran homogen

(ii) Senyawa

(iv) Campuran heterogen

Pasangkan antara jenis materi dengan pengertiannya berikut ini dengan menggunakan garis!

Jenis Materi	
(i)	●
(ii)	●
(iii)	●
(iv)	●

Pengertian	
●	Campuran yang terdiri atas dua materi atau zat yang dapat menyatu secara merata.
●	Zat kimia yang tidak dapat dibagi lagi menjadi zat yang lebih sederhana.
●	Campuran yang terdiri atas dua zat atau materi berbeda yang tidak dapat menyatu secara sempurna.
●	Zat tunggal yang terbentuk dari beberapa unsur.

11. Perhatikan gambar berikut!



A



B



C



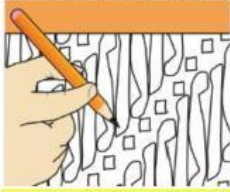
D

Berdasarkan gambar di atas, pasangkan antara gambar dengan jenis usaha ekonomi yang sesuai dengan menggunakan garis!

Gambar	
A	●
B	●
C	●
D	●

Usaha Kegiatan Ekonomi	
●	Pertanian
●	Perkebunan
●	Peternakan
●	Jasa

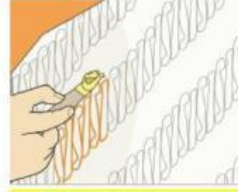
12. Perhatikan gambar berikut!



Gambar A



Gambar B



Gambar C



Gambar D

Berdasarkan gambar di atas, pasanglah gambar berdasarkan langkah-langkah yang dilakukan dengan memberi garis!

Gambar	
A	●
B	●
C	●
D	●

Langkah-langkah	
●	Menyiapkan larutan untuk merendam kain
●	Mencelupkan dan menghilangkan lilin
●	Membuat pola gambar pada kain
●	Menutup bagian gambar dengan lilin

D. ISIAN SINGKAT

Isilah titik-titik berikut ini dengan jawaban yang tepat!

13. Perhatikan gambar berikut!



Pada gambar di samping menunjukkan adanya persatuan di lingkungan

14. Perhatikan pernyataan berikut!

"Ada beberapa jenis iklan, salah satunya adalah jenis iklan yang bisa dilihat dan didengar secara bersamaan. Jenis iklan ini banyak ditemui di televisi dan bioskop".

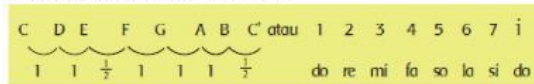
Berdasarkan pernyataan di atas, jenis iklan yang dimaksud adalah iklan

15. Perhatikan pernyataan berikut!

"Negara Indonesia memiliki wilayah perairan yang lebih luas dibanding wilayah daratannya".

Berdasarkan pernyataan di atas, negara Indonesia disebut sebagai negara

16. Perhatikan gambar berikut!



Nama tangga nada berdasarkan gambar di atas adalah tangga

nada diatonis

E. URAIAN

Jawablah pertanyaan berikut dengan tepat!

17. Perhatikan gambar berikut!



Tuliskan 3 contoh perilaku yang mencerminkan persatuan dan kesatuan pada lingkungan yang tampak pada gambar di atas !

Jawaban :

.....

.....

.....

18. Perhatikan ilustrasi berikut!

"Iklan elektronik adalah iklan yang menggunakan alat atau perangkat elektronik".

Berdasarkan ilustrasi di atas, tuliskan 3 alat atau perangkat pada iklan tersebut!

Jawaban :

.....

.....

.....

19. Perhatikan ilustrasi berikut!

"Zat campuran adalah zat yang komponen penyusunnya terdiri atas dua atau lebih zat atau materi. Pada zat campuran terbagi atas 2 jenis."

Berdasarkan ilustrasi di atas, tulis dan jelaskan kedua jenis zat tersebut!

Jawaban :

.....

.....

.....

20. Perhatikan ilustrasi berikut!

Usaha ekonomi yang dikelola secara berkelompok adalah usaha yang dijalankan secara bersama-sama, baik dalam hal modal, pengelolaan, maupun dalam hal bagi hasil.

Tuliskan 3 contoh usaha ekonomi berdasarkan ilustrasi di atas!

Jawaban :

.....

.....

.....

" Selamat Bekerja "