

NOMBRE:

FECHA:

**1.- Escribe el nombre y la fórmula para calcular el áreas de las siguientes figuras planas:**

NOMBRE



FÓRMULA









NOMBRE



FÓRMULA










**2.- Calcula el perímetro y área de las siguientes figuras:**

12dm



P:

A:


27 dm

150 cm



P:

A:



P:

A:

75mm

39 mm

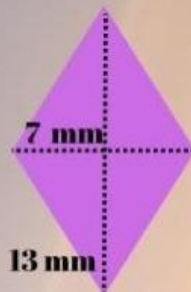


25 mm

P:

A:

7 mm



13 mm

P:

A:

15 cm




20 cm

P:

A:

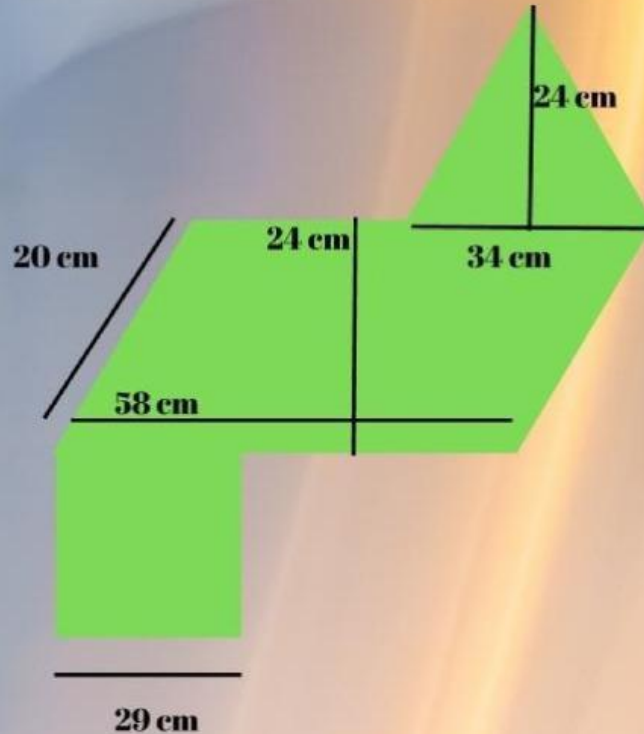
3.- Calcula la longitud y el área del círculo y su circunferencia:



ÁREA:

LONGITUD:

3.- Calcula el perímetro y el área de la siguiente figura VERDE.



PERÍMETRO:

ÁREA: