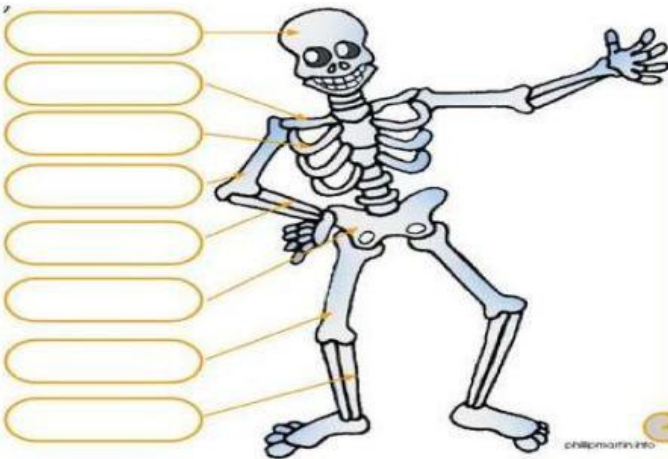
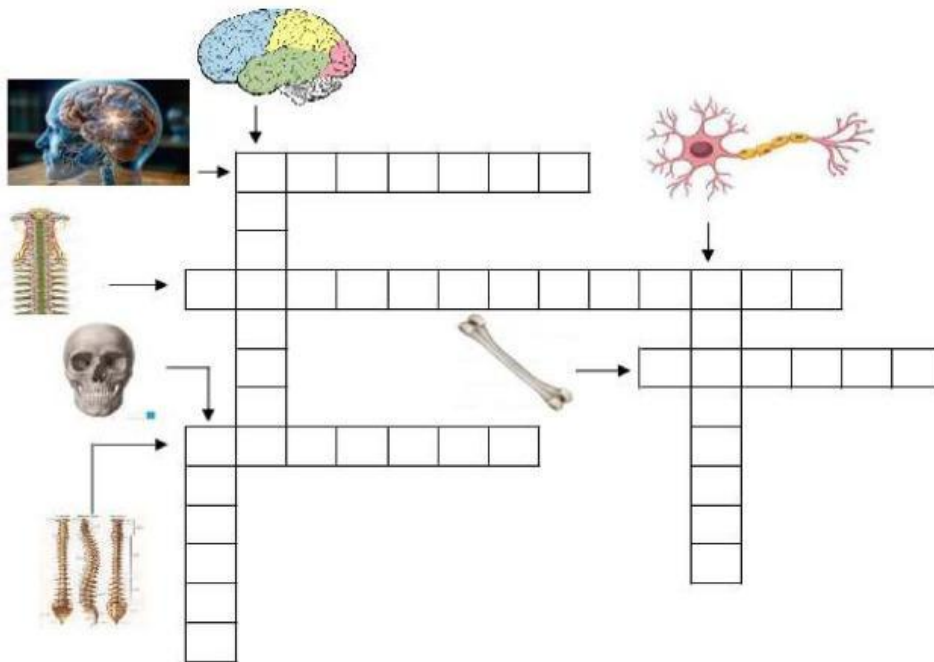
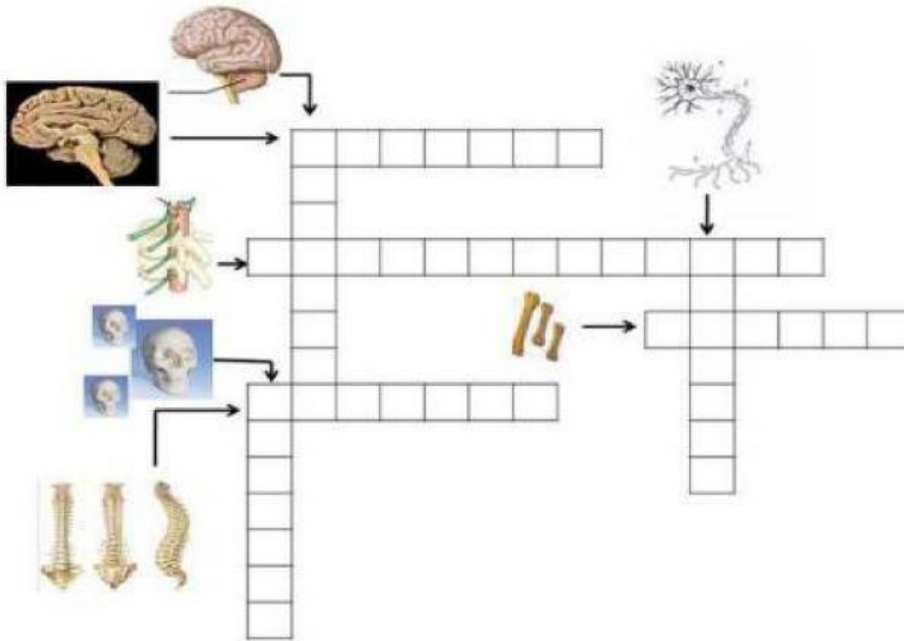
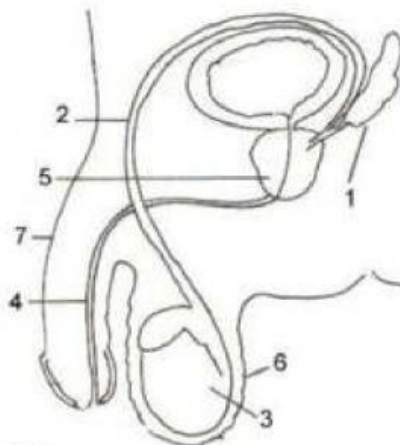
	ESCUELA DE EDUCACIÓN BÁSICA "JOAQUÍN SÁNCHEZ DE ORELLANA" Manuel Burbano 1117 Y Joaquín Sánchez Telf. 2390-144 Puenbo - Ecuador		AÑO LECTIVO: 2023-2024	
EVALUACIÓN DEL TERCER TRIMESTRE				
NOMBRE DEL ESTUDIANTE				
GRADO:	5°	PARALELO	A-B-C	JORNADA
ASIGNATURA:	CIENCIAS NATURALES		FECHA:	Vespertina
DOCENTES:			CALIFICACIÓN:	
INSTRUCCIONES Lea detenidamente la evaluación antes de resolverla. Las respuestas deberán estar con esferográfico. No usar corrector, evitar borrones, tachones ni manchones. Si alguna pregunta no está clara consulte con su docente. Letra legible. Practique el valor de la honestidad académica				
N°	Planteamiento			
SUBARAYA LO CORRECTO				
1	¿Cuál es el sistema muscular? (2P) a) El sistema muscular es el que se ocupa de la irrigación de la sangre. b) Es el sistema que se refiere a la reproducción humana. c) El sistema muscular es el sistema de órganos que consiste en todos los músculos del cuerpo			
2	¿Qué función tiene el sistema muscular? (2P) a) El sistema muscular tiene la función de alertar al cuerpo ante un posible problema. b) El sistema muscular permite que el esqueleto se mueva, mantenga estabilidad y la forma del cuerpo. c) El sistema muscular permite bombear la sangre a todo el cuerpo			
3	Escribe los nombres de los huesos según corresponda. (6P) <div style="display: flex; align-items: center; justify-content: center;">  <div style="border: 1px solid black; padding: 10px; margin-left: 20px;"> <p style="text-align: center; color: red; margin: 0;">HUESOS</p> <p>CLAVÍCULA</p> <p>PELVIS</p> <p>HÚMERO</p> <p>TIBIA</p> <p>RADIO</p> <p>CRÁNEO</p> <p>COSTILLA</p> <p>FÉMUR</p> </div> </div>			

4

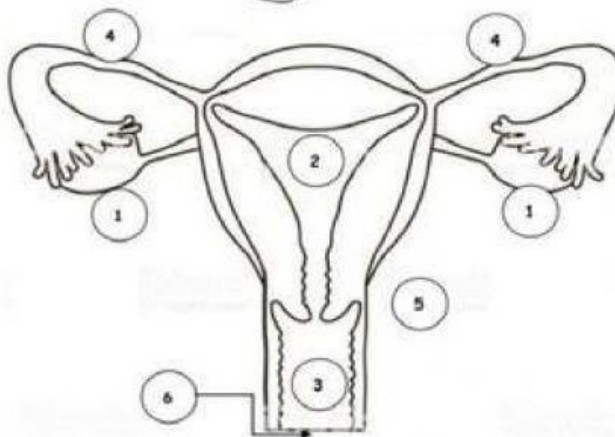


5 Escribe en el paréntesis el número correspondiente de los órganos femenino y masculinos (10p)

- () Pene
 () Testículo
 () Uretra
 () Escroto
 () Próstata
 () Vesículas seminales
 () Conductos deferentes



- () Matriz o útero
 () Ovario
 () Vagina
 () Cuello de matriz
 () Trompas de Falopio
 () Vulva



6 Identifique las palabras relacionadas con el sol y las medidas mecánicas de foto protección (6P)

P	I	S	O	M	B	O	R	R	A	R	B	Palabras
A	R	E	S	I	V	A	O	L	K	O	G	Gafas
E	S	T	A	U	E	G	L	A	I	B	O	Gorra
L	E	O	N	E	M	I	A	P	S	E	R	Pamela
O	B	I	E	B	O	S	O	V	U	R	A	Sol
S	U	L	M	E	R	P	I	N	C	I	O	Sombrero
O	S	O	E	T	A	E	R	U	B	L	C	Sombrilla
M	S	I	C	E	N	A	R	H	U	P	E	Visera
A	L	E	M	A	P	L	E	O	S	R	B	
A	L	A	I	M	R	O	S	A	F	A	G	
L	I	M	D	G	A	S	A	G	I	D	O	