



Segundo Grado

Matemática

Martes 2 de marzo del 2021

Reconozco los números desde 0 hasta 10.


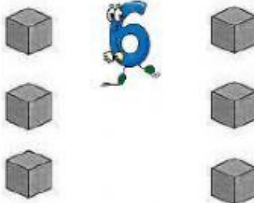

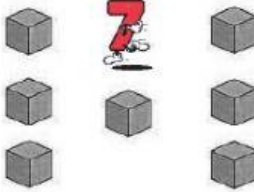
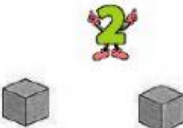

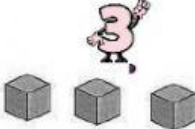

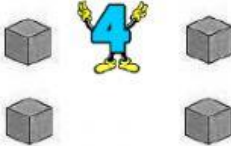





T. Arelys.

Nombre: _____

1. Escribo a la derecha de cada cantidad, el "nombre" del número que se representa. Observe los ejemplos.
Encuentre las palabras en el recuadro.

uno – nueve – cuatro – tres – seis – dos – siete – diez – cinco – ocho

	cero		seis
			
			
			
			
			Debes <u>marcar como completado</u> en Google Classroom Matemática.