

Nama : Maria Goretibina Sembiring, Fica Miranda Br Tarigan, Adrian David Ginting

Kelompok : 2

Fase : C

Kelas : C

---

1. Bangun yang memiliki 4 sisi dan keempat sisinya memiliki panjang yang sama adalah...?


A.



C.



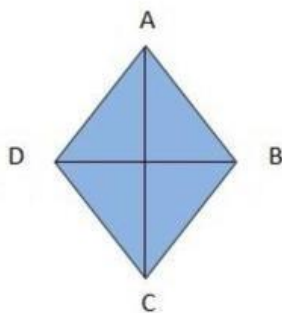
B.



D.



2.



Apakah nama bangun datar di samping ini...?

A. Belah ketupat

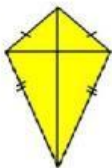
C. Trapesium

B. persegi

D. Jajar genjang

3. Yang manakah bangun datar yang memiliki sudut paling banyak...?

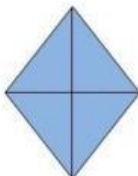
A.



C.



B.



D.

