

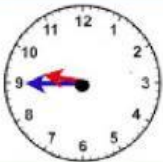


1. Marca un tick en la opción correcta



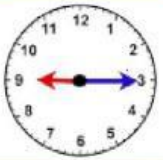
son las nueve en punto

son las nueve y media



son las diez menos cuarto

son las diez y cuarto



son las nueve en punto

son las nueve y cuarto



2.- Continúa la serie



UNA HORA

09:30

:

:

:

:



MEDIA HORA

05:00

:

:

:

:



UNA HORA

:

07:30

:

:

:

3.- Indica anterior y posterior



UNA HORA















MEDIA HORA

07:30



#### 4.- Selecciona la hora correcta

4. Ana fue a la biblioteca a las 10:30 y salió una hora y media después. ¿A que hora salió?



Entró



Salió



Solución: Ana salió a las



5.- Indica la opción correcta teniendo en cuenta las agujas



01:00

01:15

01:30

01:45



11:00

11:15

11:30

11:45



05:00

05:15

05:30

05:45



03:00


03:15

03:30

03:45

6.- Completa


Son las 9 en punto



Dentro de 15 minutos serán...



Son las 7 y media



Dentro de 1 hora y cuarto serán...



7.- Escribe



Son las 8 y cuarto



Son las 9 menos cuarto



Son las 7 en punto