

**6** Dibuja con tu regla estos triángulos y contesta.

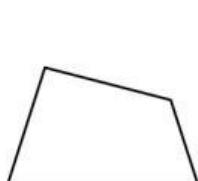
a) Obtusángulo

b) Acutángulo

c) Rectángulo

d) Si un triángulo tiene un ángulo recto, ¿cómo son sus otros ángulos? .....

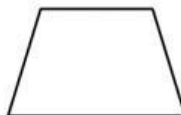
**7** Nombra estos cuadriláteros y colorea los que son paralelogramos.



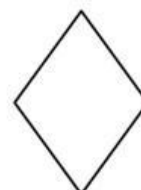
.....



.....



.....



.....

**8** Coloca y calcula.

a)  $375 \times 3 =$  .....

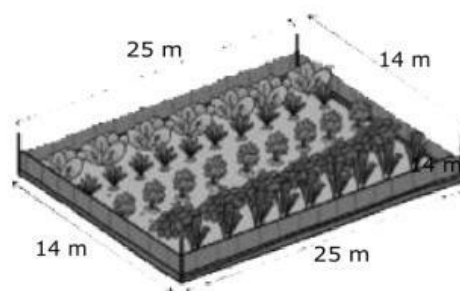
b)  $70 \times 6 =$  .....

**9** En una prueba deportiva Iván debe recorrer 10 aros pisando el interior. Si el diámetro de cada aro mide 60 cm, ¿cuántos centímetros recorrerá en prueba?



.....

**10** ¿Cuántos metros de valla ha puesto Elvira alrededor de su huerto?



.....