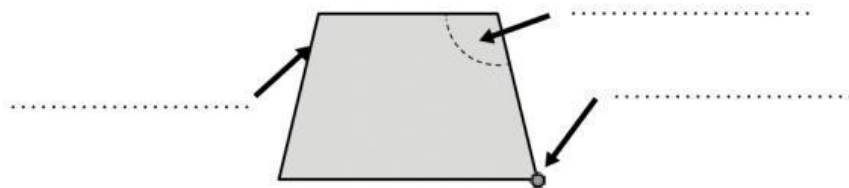


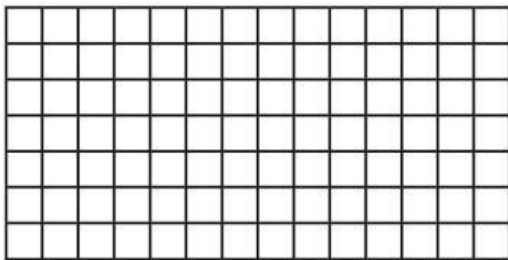
1 ¿Cuáles de estas figuras son polígonos? Rodéalos.



2 Escribe los nombres de los elementos de este polígono.



3 Dibuja un polígono de 6 lados.

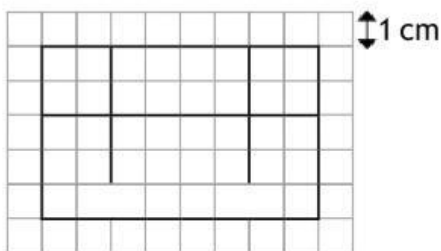


a) ¿Cómo se llama? .....

b) ¿Cuántos vértices tiene? .....

c) ¿Y ángulos? .....

4 Si cada cuadradito mide 1 cm de lado, ¿cuál es el perímetro de la figura?



5 Mide y clasifica estos triángulos según sus lados.

