



Observa el video y contesta.

NOMBRE: _____ GRUPO: _____

1. ¿Cuántos grupos de 3 puedes formar?



RESPUESTA

2. Escribe los números que falten para completar la serie.

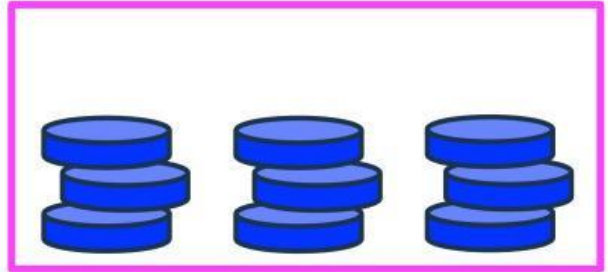
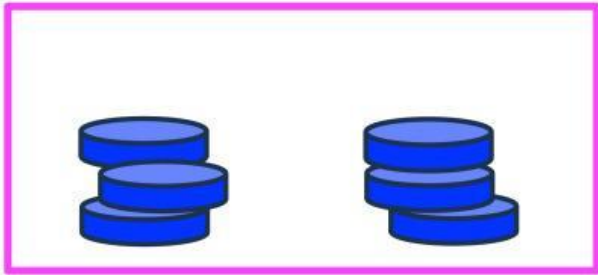
3	6		12	15	18
21	24		30		

3. Encuentra los nombres de estos números en la sopa de letras.



F	N	I	F	W	Q	X	Z	N	S
E	U	M	S	T	S	F	B	I	A
J	E	T	R	E	S	Y	A	K	V
H	V	R	R	O	B	E	Z	F	A
I	E	U	O	W	O	L	I	R	D
F	W	A	N	D	O	C	E	S	O
J	K	H	X	P	P	R	R	C	R
X	H	Q	U	I	N	C	E	J	G
B	Ñ	L	Ñ	I	A	U	F	M	D
Z	F	H	W	V	M	K	H	W	W

4. Une con líneas el grupo de fichas con su número. Toma en cuenta que sobra un número.

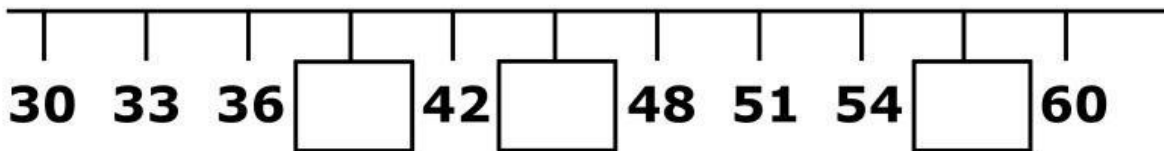


9

6

12

5. Escribe los números que faltan en la siguiente recta que va de 3 en 3:

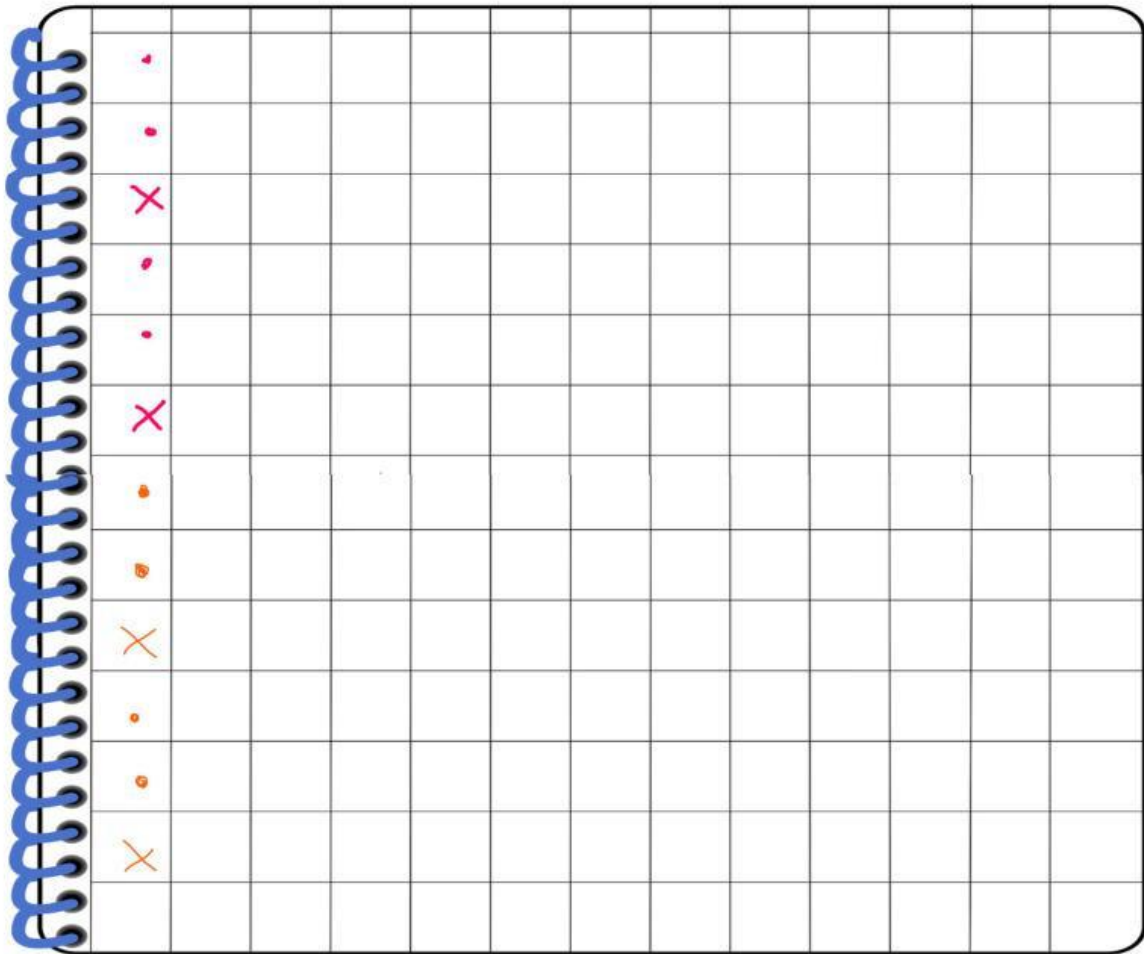


6. ¿Cuántas bananas hay?:








RESPUESTA

7. Escribe una numeración de 3 en 3 que inicie en el 60 y termine en el 90.



8. ¿Cuántas bananas faltan para completar 18?



Respuesta

9. Observa las siguientes numeraciones.

¿Cuál está escrita con números que van de 3 en 3?

Elige la respuesta correcta:

a. 22 - 24 - 26

b. 21 - 22 - 23

c. 20 - 23 - 26

10. Si una numeración está de 3 en tres, ¿qué número sigue del 26?

RESPUESTA: