

1.colocar dentro de los () “V” si es verdadero y “F” si es falso.

monitor es un dispositivo de salida fundamental en las computadoras de escritorio, diseñado para visualizar gráficamente la información procesada por una computadora()

El MAUSE es un dispositivo que convierte una señal eléctrica de audio en ondas mecánicas de sonido.()

EL TECLADO

2.relaciona las partes del teclado:

Teclas función




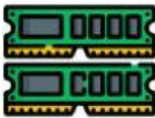







Teclas numérico



Teclas alfanuméricas

Teclas direccionales

3.En las siguientes imagenes escribe H si es hardware y S si es software

<input type="text"/> 	<input type="text"/> 	<input type="text"/> 	<input type="text"/> 
<input type="text"/> 	<input type="text"/> 	<input type="text"/> 	<input type="text"/> 
<input type="text"/> 	<input type="text"/> 	<input type="text"/> 	<input type="text"/> 