

# SECRETARIA MUNICIPAL DE EDUCAÇÃO, CIÊNCIA E TECNOLOGIA

*EDUCAÇÃO ILUMINA VIDAS*



UNIDADE ESCOLAR:

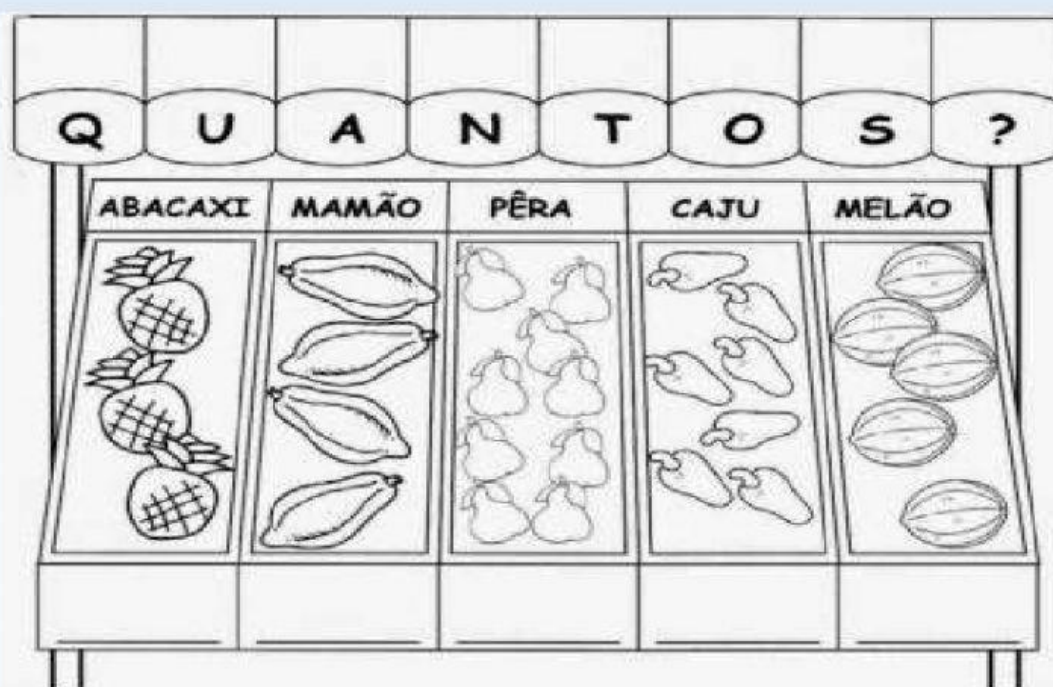
PROFESSOR (A):

Turma:

ALUNO (A):

DATA:

## Atividade de Matemática



$$\text{ABACAXI} + \text{CAJU} = \underline{\hspace{2cm}}$$

$$\text{MELÃO} + \text{MAMÃO} = \underline{\hspace{2cm}}$$

$$\text{PÊRA} + \text{ABACAXI} = \underline{\hspace{2cm}}$$







$$\text{MAMÃO} + \text{PÊRA} = \underline{\hspace{2cm}}$$

$$\text{CAJU} + \text{MELÃO} = \underline{\hspace{2cm}}$$

$$\text{ABACAXI} + \text{MELÃO} = \underline{\hspace{2cm}}$$



**2-) Resolva as adições com atenção:**

					
4 4	5 3	3 2	2 5	4 7	5 6
+ 1 2	+ 1 4	+ 2 4	+ 2 3	+ 2 1	+ 2 3
<input type="text"/>	<input type="text"/>	<input type="text"/>	<input type="text"/>	<input type="text"/>	<input type="text"/>

**3-) Coloque os números que vem antes e depois.**

	27	
	15	
	9	
	22	
	10	

	6	
	29	
	35	
	17	
	5	

<https://revistazunai.com.br>

**4-) Marque os círculos que tem valor maior que 25 unidades.**

