





1. Yang dimaksud dengan Seni Budaya dan Ketrampilan adalah. . .
 - a. berkerja dengan tidak kenal lelah
 - b. bernyanyi dengan bergaya
 - c. menggambar model sesuka hati
 - d. semua aktivitas dalam berkarya
2. Dari beberapa jenis tarian yang ditampilkan oleh para penari, diwajibkan untuk menggunakan properti yang berfungsi sebagai...
 - a. pelengkap dari tari
 - b. Agar terlihat indah
 - c. Untuk memperjelas tema dan sebagai unsur pendukung
 - d. Agar terlihat perbedaan penampilan dari penari dari daerah yang lainnya
3. Berikut ini merupakan fungsi iringan musik pada penyajian tari kecuali. . .
 - a. Sebagai iringan gerak
 - b. Sebagai ilustrasi
 - c. sebagai pembangun suasana
 - d. Memperindah penampilan
4. Berikut ini merupakan syarat dalam membuat komik, *kecuali*...
 - a. Menentukan topic atau tujuan
 - b. Menggunakan kata – kata yang lengkap
 - c. Menentukan kalimat
 - d. Menggunakan gambar
5. Yang manakah merupakan persamaan antara menggambar komik dan cerpen berikut ini...
 - a. Hanya mendiskripsikan secara kata- kata
 - b. Menampilkan dalam bentuk gambar- gambar
 - c. Mengembangkan cerita dengan disertai tokoh – tokohnya
 - d. Tokoh yang memerankan dengan berbagai karakter
6. Proses penciptaan karya seni tergantung pada tiga hal, kecuali hubungan...
 - a. Seniman dengan alam
 - b. Seniman dengan karya seni
 - c. Seniman dengan masyarakat
 - d. Seniman dengan seniman
7. Berikut ini merupakan keunikan lagu daerah setempat, *kecuali*. . . .
 - a. Sederhana
 - b. tidak diketahui penciptanya
 - c. tidak turun -temurun
 - d. kedaerahan
8. Musik yang lahir karena budaya setempat disebut musik....
 - a. Klasik
 - b. tradisional
 - c. kontemporer
 - d. non tradisional
9. Keunikan yang ada pada tari gerak sama untuk wanita itu terletak pada ...
 - a. Gerakan kaki yang maju secara bersilang
 - b. Gerakan pergelangan tangan yang keatas dan kebawa
 - c. Gerakan badan yang berputar
 - d. Gerakan bahu dan kepala
10. Manfaat yang didapatkan dengan terlibat langsung dalam bernyanyi secara vocal grub adalah ...
 - a. Dapat saling menonjolkan diri
 - b. Kesempatan untuk memperdengarkan suara kita lebih nyaring dan merdu
 - c. Dapat berkerja sama, saling menghormati, saling menghargai dan tidak sombong.
 - d. Dapat saling bersaing menjadi yang terbaik tanpa peduli terhadap anggota

11. Keunikan yang ada pada tari gerak sama ajai untuk laki-laki terletak pada...
- pergelangan tangan yang bergerak kebawah dan keatas
 - Gerakan kaki yang bertahan dengan langkah yang lebar
 - Gerakan kepala dengan pandangan keatas dan kebawah
 - Terletak pada perisai dan parang yang digunakan sebagai properti
12. Untuk menyanyikan lagu daerah kebanyakan anak – anak remaja tidak menyukai lagu tersebut karena...
- Sangat sangat sederhana dan singkat
 - bukan zamannya lagi dan sudah beranjak dewasa
 - sudah ketinggalan zaman
 - karena bukan berasal dari daerah setempat
13. Berikut ini merupakan pola lantai yang dibutuhkan pada saat menyajikan tari kecuali . . .
- Pola lantai garis lurus
 - Pola lantai garis lengkung
 - Pola lantai garis segi empat
 - Pola lantai sejajar atau mendatar
14. Berikut ini adalah objek gambar untuk menggambar model kecuali. . .
- Hewan
 - Tumbuh – tumbuhan
 - Benda – benda
 - seorang model yang sedang memotret
15. Salah satu karakter dari lagu daerah yang ada di daerah setempat adalah . . .
- Banyak menggunakan nada sisipan
 - Ambitusnya sempit
 - tidak mempunyai bentuk lagu tertentu
 - melodinya sederhana
16. Berikut ini merupakan unsur dari pada musik yang paling penting, *kecuali*. . .
- melodi
 - irama
 - harmoni
 - alat musik
17. Pada saat menggambar model ada beberapa unsur yang dibutuhkan diantaranya adalah. . .
- bidang, tekstur, dan pengaturan gelap dan terang
 - membutuhkan pencahayaan dari semua arah
 - hanya dengan model gambar dan bidang gambar dengan arsir silang
 - dengan pencahayaan dari salah satu arah yang lebih kuat
18. Bentuk Penyajian seni tari menurut jumlahnya dapat dibagi menjadi . . .
- enam
 - lima
 - tiga
 - empat
19. Ambitus suara manusia dapat dikelompokkan menjadi. . .
- satu
 - dua
 - tiga
 - empat
20. Berikut ini merupakan Pernafasan yang dilakukan saat bernyanyi kecuali ...
- Pernapasan perut
 - Pernapasan dada
 - pernapasan mulut
 - pernapasan diafragma
21. Dalam Menyanyikan paduan suara dalam dua suara pada umumnya dapat disajikan oleh kelompok ...
- Anak – anak
 - wanita dewasa
 - pria dewasa
 - campuran wanita dan pria dewasa

22. Kulintang adalah alat music tradisional yang selalu digunakan untuk mengiringi tari yang berbentuk . . .
 a. Segi tiga b. lonjong c. dawai d. bilah
23. Pencahayaan yang baik digunakan saat membuat gambar model adalah. . .
 a. tanpa pencahayaan akan lebih baik
 b. membutuhkan pencahayaan dari semua arah
 c. hanya dengan model gambar dan bidang gambar dengan arsir silang
 d. dengan pencahayaan dari salah satu arah yang lebih kuat
24. Pokok pikiran, gagasan, atau ide dalam proses berkarya music disebut.. . .
 a. Ritme b. Melodi c. Aransemen d. Tema
25. Pengumuman yang biasanya terdapat pada Koran atau majalah, jenis reklame ini disebut.
 a. Iklan b. Sticker c. Katalog d. Logo
26. Cara seseorang untuk menciptakan karya seni disebut .. .
 a. Kreativitas b. Gagasan c. Karakter d. Teknik
27. Kegiatan Musik yang disajikan dengan suara manusia disebut
 a. Vokal b. Kanon c. Instrumental d. Akapela
28. Ungkapan perasaan yang dituangkan dalam bentuk bunyi- bunyian disebut. . .
 a. Seni tari b. Seni rupa c. Seni musik d. Seni lukis
29. Bahan yang digunakan untuk membuat alat music kolintang di daerah jawa dan sulawesi utara adalah berupa. . . .
 a. Senar b. Kuningan c. Tembaga d. Kayu ulin
30. Istilah music berasal dari kata *MOUSIKOS* yang melambangkan dewa keindahan dan menguasai bidang kesenian dan ilmu pengetahuan. Pernyataan tersebut berasal dari bahasa...
 a. Inggris b. Indonesia c. Yunani d. Malaysia
31. Jenis paduan suara berikut ini digunakan untuk jenis suara tingkat...
 ■ Alto
 ■ Mezzosopran
 ■ Sopran
 a. wanita dewasa c. anak – anak
 b. pria dewasa d. campuran wanita dan pria dewasa
32. Berikut ini yang termasuk contoh dari karya seni terapan adalah . . .
 a. Teko porselen b. Lukisan ditembok c. lukisan budha d. lukisan dibuku
33. Berikut ini yang tidak termasuk karya seni kriya adalah. . .
 a. Batik b. anyaman c. guci d. lukisan
34. Yang merupakan ciri- ciri dari poster adalah .. .
 a. Mempunyai sifat menarik perhatian mata karna berwarna-warni
 b. Tidak perlu ada warnanya cukup dengan sederhana saja
 c. Tidak perlu untuk memuatkan komposisi antara huruf dan gambar
 d. Tidak perlu dituliskan pesan cukup gambar saja
35. Karya seni juga disebut sebagai karya yang...
 a. Indah b. Mempunyai nilai guna c. Menarik d. Estetis

36. Karya seni yang mementingkan keterampilan tinggi contoh..
a. Karya keramik b.Meja c.Lemari d.Kursi
37. Berikut ini merupakan bidang geometris, *kecuali* ...
a.  b.  c.  d. 
38. Cara menggambar bentuk dengan membuat garis – garis sejajar atau menyilang untuk menentukan gelap terangnya disebut ...
a. Dusel b.Arsir c. linear d. pointilisme
39. Cara menggambar dalam menentukan gelap – terangnya dengan pensil gambar disebut
a. Arsir b. Linear c. dusel d. blok
40. Saat menyanyikan lagu daerah ada beberapa teknik dan gaya yang dilakukan *kecuali*. . . .
a. Gaya lokal c. gaya individual
b. Gaya periodikal d.gaya bebas dan vokal
c.
41. Dalam kegiatan bernyanyi ada istilah yang dimaksud dengan unisano artinya....
a. bernyanyi dalam bentuk solo c.bernyanyi dalam bentuk satu suara
b. bernyanyi dalam bentuk duet d.bernyanyi dalam bentuk vokal grup
42. Berikut ini manakah yang merupakan fungsi dari gambar komik . . .
a. Menyampaikan pesan singkat c. memiliki seni guna dan seni pakai
b. Memiliki keindahan pada gambar d. menarik perhatian orang
43. Yang merupakan ciri-ciri dari vokal grup anggotanya adalah...
a. 3 sampai 10 b. 20 sampai 25 c. 30 sampai 35 d. 15 sampai 20
44. Karakter lagu anak-anak antara lain...
a. Jarang diketahui penciptanya c. bersifat mendidik
b. Sering menggunakan perubahan tempo d. ambitusnya luas
45. Berikut ini merupakan syarat dalam membuat gambar poster, *kecuali*...
a. Menentukan topic atau tujuan c. Menentukan kalimat
b. Menggunakan kata – kata yang lengkap d. Menggunakan gambar
46. Manfaat yang didapatkan dengan terlibat langsung dalam tampil menari secara kelompok adalah ...
a. Dapat saling menonjolkan diri dengan berbagai gerakan
b. Kesempatan untuk memperagakan gerakan yang lincah
c. Dapat berkerja sama, saling menghormati, saling menghargai dan tidak sombong.
d. Dapat saling bersaing menjadi yang terbaik tanpa peduli terhadap anggota
47. Berikut ini merupakan unsur pendukung dalam penampilan tari. *kecuali*...
a. Iringan musik b. pola lantai c. properti d. gerakan tangan dan kaki
48. Yang merupakan karakter musik daerah adalah...
a. Dinamis b. populer c. sederhana d. non tradisional

49. Dalam permainan musik ada yang dimaksud dengan istilah ansambel yaitu...
- a. Bernyanyi bersama secara vokal grup
 - b. Bermain musik bersama-sama baik sejenis maupun campuran
 - c. Menari dalam bentuk kelompok
 - d. Membuat keterampilan dalam bentuk perisai dengan mengukir yang indah
50. Awal mula seorang ciptakan lagu adalah dari...
- a. Pengalaman dari menonton konser
 - b. Pengalaman banyak membaca buku
 - c. dari alat musik yang dilihat
 - d. berawal dari kejadian kehidupan sehari-hari