


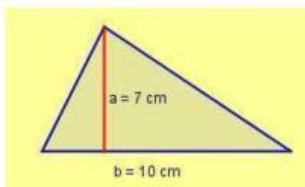
Áreas



Instrucción:

Calcula el área de las siguientes figuras


1



$$A = \frac{b \cdot h}{2}$$

Respuesta: _____ cm^2

2



$$A = b \times h$$

Respuesta: _____ cm^2

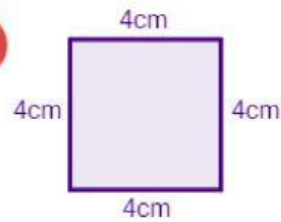
3



$$A = \frac{P \times a}{2}$$

Respuesta: _____ cm^2

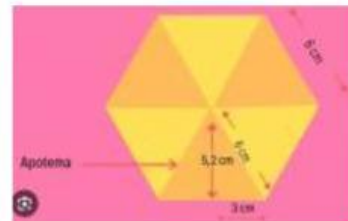
4



$$\text{Área} = L \times L$$

Respuesta: _____ cm^2

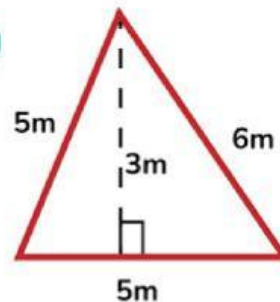
5



$$A = \frac{P \times a}{2}$$

Respuesta: _____ cm^2

6



$$A = \frac{b \cdot h}{2}$$

Respuesta: _____ cm^2

