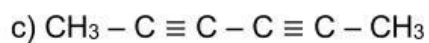
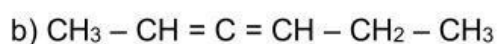
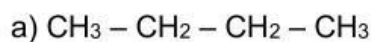




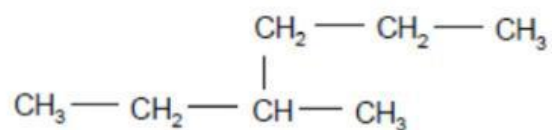
FORMULACIÓN ORGÁNICA

1. Nombra cada uno de los compuestos orgánicos que se indican a continuación.

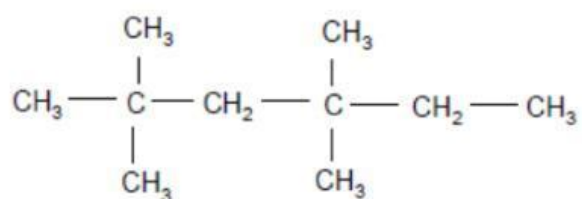
Escribe todo en mayúsculas. Recuerda: los números se separan entre sí por comas y se separan de las palabras por guion.



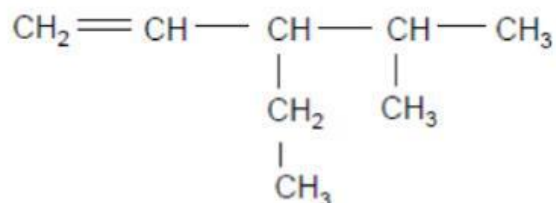
d)

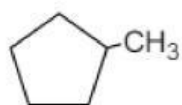


e)



f)

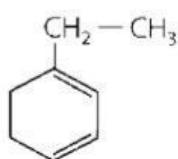




a) 1-metilciclohexano

b) metilciclohexano

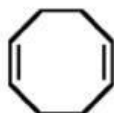
c) metilciclohex-1-ano



a) 1-etilciclohexa-1,3-dieno

b) 4-etilciclohexa-1,3-dieno

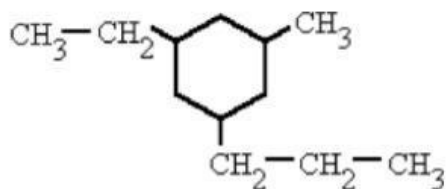
c) 4-etilciclohex-1,3-eno



a) ciclooctadieno

b) cicloocta-1,5-dieno

c) 1,5-ciclooctadieno



a) 1-etil-3-metil-5-propilhexano

b) 1-etil-5-metil-3-propilhexano

c) 3-etil-1-metil-5-propilhexano