

LKPD

LEMBAR KERJA PESERTA DIDIK

Tema :

Bagaimana kita hidup dan bertumbuh

Untuk Kelas 5 SD

Nama :

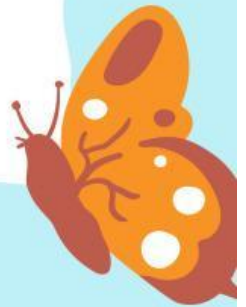

Kelas :

Tujuan


1. Peserta didik dapat menentukan organ - organ pencernaan dengan baik dan benar
2. Peserta didik dapat menentukan makanan bernutrisi yang diperlukan oleh tubuh dengan betul
3. Peserta didik dapat menentukan sistem organ pernafasan dengan benar
4. Peserta didik dapat menentukan sistem peredaran darah pada manusia dengan benar

Petunjuk



1. Simaklah arahan dari gurumu
2. Bacalah perintah yang diberikan dengan teliti pada lembar ini
3. Pahami soal yang ada di LKPD
4. Diskusikan dalam kelompok jawaban dari pertanyaan yang sudah ada di LKPD
5. Presentasikan hasil kerjamu dengan mengutus perwakilan kelompok di depan kelas



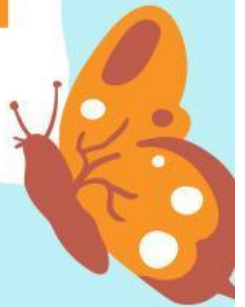
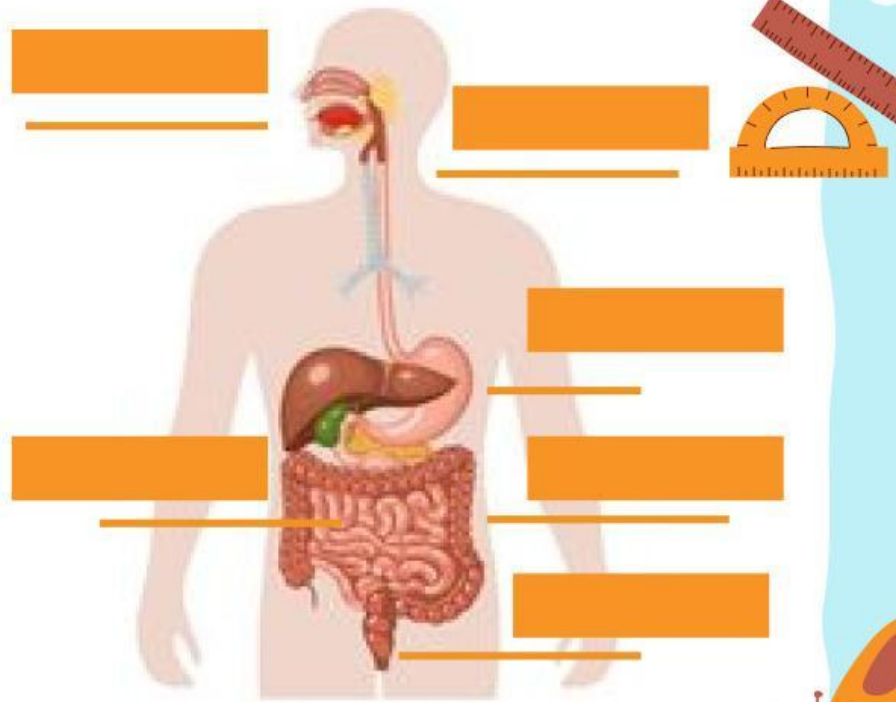
PERHATIKAN SOAL YANG DIBERIKAN



Pada suatu hari Dilan dan Milea sedang memakan bekal yang mereka bawa. Pada waktu mereka makan mereka bercerita tentang organ pencernaan apa saja yang dilalui makanan agar sampai ke dalam perut. Apakah kamu dapat membantu Dilan dan Milea untuk menentukan organ pencernaan apa saja yang terlibat agar makanan itu sampai ke dalam perut dengan menentukan nama organ pencernaan pada halaman berikutnya!



SISTEM PENCERNAAN MANUSIA



Pada suatu hari Ancika disuruh kakanya ke pasar untuk membeli makanan yang tinggi Protein, Karbohidrat, Serat dan Lemak. Dapatkah kamu membantu Ancika menentukan makanan apa saja yang harus di beli dengan mencocokkan pilihan di bawah ini

Serat

Karbohidrat

Lemak

Protein

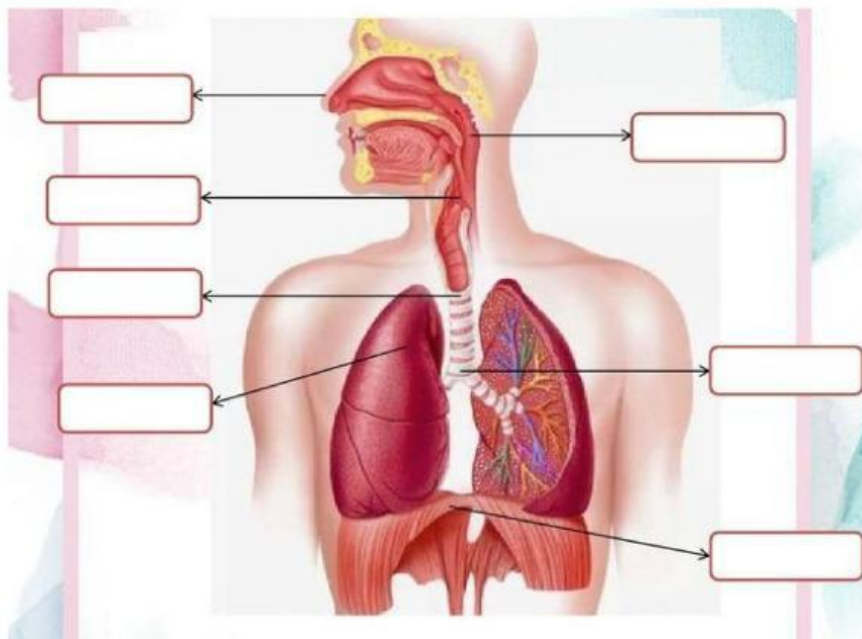
Santan

Sagu dan Jagung

Telur

Sayur - Sayuran

Setelah ibu guru menjelaskan bagian - bagian sistem pernafasan manusia. Coba sesuaikan bagian bagian sistem pernafasan dengan baik dan benar



Hidung

Faring

Trakea

Diagfarma

Paru - Paru

Laring

Bronkus





Teka Teki Silang

Sistem Peredaran Darah Pada Manusia

Carilah bagian-bagian sistem peredaran darah pada manusia

S	E	R	A	M	B	I	K	A	N	A	N
J	E	L	L	O	H	C	O	G	A	R	L
A	U	R	B	E	R	E	B	R	A	T	E
N	R	C	I	R	O	T	K	E	T	E	P
T	P	A	L	M	L	U	A	E	R	R	R
U	C	I	I	R	B	L	A	N	D	I	E
N	R	P	K	N	T	I	U	G	S	E	C
G	B	A	K	M	C	K	K	O	R	C	H
I	D	R	I	A	S	E	E	I	S	E	V
C	I	A	R	R	A	I	N	B	R	W	E
B	I	L	I	K	K	A	N	A	N	I	N
P	A	R	U	P	A	R	U	O	C	K	A

SERAMBI
KANAN

SERAMBI
KIRI

AORTA

PARU PARU

VENA

JANTUNG

BILIK KANAN

BILIK KIRI

ARTERI

