

**SATUAN PENDIDIKAN : MI WAHIDHASYIM**

**KELAS / SEMESTER : 4 / 1**

**PEMBELAJARAN : BANGUN SEGI BANYAK**

**SUB PEMBELAJARAN : PENGERTIAN BANGUN SEGI BANYAK**

**MATERI : BANGUN SEGI BANYAK**

## BANGUN SEGI BANYAK

Nama : .....

Kelas : .....

Hari / tanggal : .....



### Petunjuk Kegiatan :

1. Bacalah dengan teliti
2. Mintalah agar orangtua kalian mendampingi Ketika kalian belajar
3. Jika ada perintah yang kurang jelas silahkan untuk bertanya pada WA grop atau Wapri guru.
4. Tetap taatilah protokol Kesehatan dengan sering cuci tangan setelah berkegiatan dan jaga jarak.
5. Jangan lupa berdoa sebelum mengawali kegiatan
6. Siapkan alat dan bahan
7. Setelah selesai letakkan alat dan bahan pada tempatnya.

### A. TUJUAN KEGIATAN

- Siswa mampu menganalisis bangun segi banyak
- Siswa mampu membandingkan bangun segi banyak beraturan dan tidak beraturan

### B. ALAT dan BAHAN

#### 1. ALAT

- Hp android yang terisntal aplikasi WA
- Internet

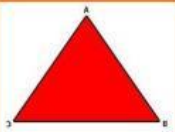




### C. LANGKAH KEGIATAN

1. Buka grop WA kelas 4 dan Simak PPT bangun segi banyak yang di share guru lewat aplikasi WA grop

2. Bertanyalah pada guru jika belum memahami penjelasan guru dengan cara chat atau voice note
3. Amatilah tabel bangun segi banyak
4. Analisislah mengenai ciri-ciri dari bangun segi banyak
5. Amatilah gambar bangun segi banyak yang ada pada tabel
6. Tuliskanlah nama bangunnya
7. Tuliskan pula banyak sisi, Panjang semua sisi, banyak sudut
8. Tuliskanlah bangun tersebut termasuk bangun segi banyak beraturan ataukah tidak beraturan
9. Selanjutnya gambarkanlah 2 buah bangun segi banyak beraturan dan 2 buah bangun segibanyak tidak beraturan
10. Kerjakanlah pada LKPD Elektronik dengan link : <https://bit.ly/31w8RjI>
11. Unggahlah tugas kalian pada linkone drive berikut ini Untuk unggah gambar bangun datar beraturan dan tidak beraturan serta screnshoot analisis bangun segibanyak : <https://bit.ly/35oNq55>



#### D. MENGANALISIS BANGUN SEGI BANYAK BERATURAN DAN BANGUN SEGI BANYAK TIDAK BERATURAN

Gambar	Nama Bangun	Banyak sisi	Panjang semua sisi	Banyak sudut	Besar semua sudut	Kesimpulan Bangun segi banyak beraturan / segi banyak tidak aturan	Jumlah skor
<b>Skor</b>	3	3	3	3	3	5	
	Segitiga	3	sama	3	sama	Bangun segi banyak beraturan	
							
							
							
							



Nilai = skor x 5

= 20 x 5

= 100

### Pesan

Alhamdulillah kalian sudah selesai melakukan kegiatan

1. Jangan lupa ucapkan alhamdulillah
2. Kembalikan alat dan bahan pada tempatnya
3. Jangan lupa batas waktu pengumpulan tugas LKPD daring
4. Tetap jaga Kesehatan dan taatilah protokol Kesehatan dengan cara memakai masker jika keluar rumah, cuci tangan dengan sabun dan air mengalir

