





LKPD


Nama :
Kelas :
No Absen :

Ayo menjodohkan gambar rambu-rambu lalu lintas dengan artinya berikut ini!

Hubungkan dengan garis lurus!

- | | |
|--|--|
| 1.  | <input type="radio"/> Aku adalah rambu yang menunjukkan tempat parkir |
| 2.  | <input type="radio"/> Aku adalah rambu yang memperingati pengendara ada jalan licin |
| 3.  | <input type="radio"/> Aku adalah rambu yang melarang pengendara untuk putar balik |
| 4.  | <input type="radio"/> Aku adalah rambu yang memperingati pengendara ada jalan berkelok-kelok |
| 5.  | <input type="radio"/> Aku adalah rambu yang melarang pengendara untuk berhenti |

Perhatikan bentuk bangun dalam kotak berikut untuk mengerjakan soal nomor 6 sampai 8!



6. Jumlah bentuk bangun dalam kotak tersebut adalah
- a. 14 c. 13
b. 12 d. 15
7. Bentuk bangun yang jumlahnya paling banyak adalah
- a. lingkaran c. belah ketupat
b. segitiga d. persegi
8. Jumlah bentuk bangun persegi ... dari bentuk bangun belah ketupat.
- a. lebih sedikit c. sama banyak
b. lebih banyak d. paling banyak