

## Lembar Aktivitas Kelompok

Nama Kelompok:

Kelompokkan dua-dua gambar berikut dengan melingkarinya.

Beri tanda centang (✓) apakah gambar tersebut bersisa atau tidak setelah dikelompokkan?

Buatlah pasangan dari gambar berikut	Adakah gambar yang tidak berpasangan?		Berapa banyak gambarnya?
	Ya (Genap)	Tidak (Ganjil)	
	....	....	....
	....	....	....
	....	....	....
	....	....	....
	....	....	....











Kelompokkan angka yang ada di papan dengan simbol “Ganjil” atau “Genap” kemudian isi kotak kosong di bawah ini dengan kata “Ganjil” atau “Genap” yang sesuai!

1	→		6	→	
2	→		7	→	
3	→		8	→	
4	→		9	→	
5	→		10	→	

Kelompokkan angka yang ada di papan dengan kata “Ganjil” atau “Genap”, kemudian isi kotak kosong di bawah ini dengan kata “Ganjil” atau “Genap” yang sesuai!

11	→		16	→	
12	→		17	→	
13	→		18	→	
14	→		19	→	
15	→		20	→	

Kelompokkan simbol “Ganjil” atau “Genap” dengan angka yang ada di papan, kemudian isi kotak kosong di bawah dengan angka yang sesuai!

	➔	Ganjil		➔	Genap
	➔	Genap		➔	Ganjil
	➔	Genap		➔	Ganjil
	➔	Ganjil		➔	Genap
	➔	Genap		➔	Ganjil