

LEMBAR KERJA PESERTA DIDIK (LKPD)

PERBANDINGAN BILANGAN
CACAH SAMPAI 20

LEBIH DARI ($>$) DAN KURANG DARI ($<$)



NAMA ANGGOTA KELOMPOK:

- 1.....
- 2.....
- 3.....
- 4.....



Tujuan Praktikum : Mmembandingkan bilangan cacah sampai 20


AKTIVITAS 1

Coba kalian lihat, makanan yang disebelah kanan dan kiri!

Bandingkan lebih banyak makananyang di sebelah kiri atau di sebelah kanan?

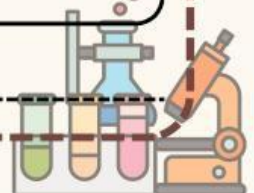

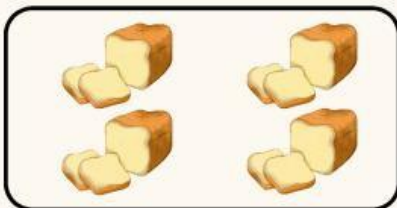




7



5

7 bayam lebih banyak dari 5 wortel





Tuliskan apakah benar atau salah pernyataan di bawah ini!

7

Kurang dari

11

Benar

3

Lebih dari

9

4

Kurang dari

5

6

Kurang dari

12

12

Lebih dari

17

10

Lebih dari

5

20

Kurang dari

9

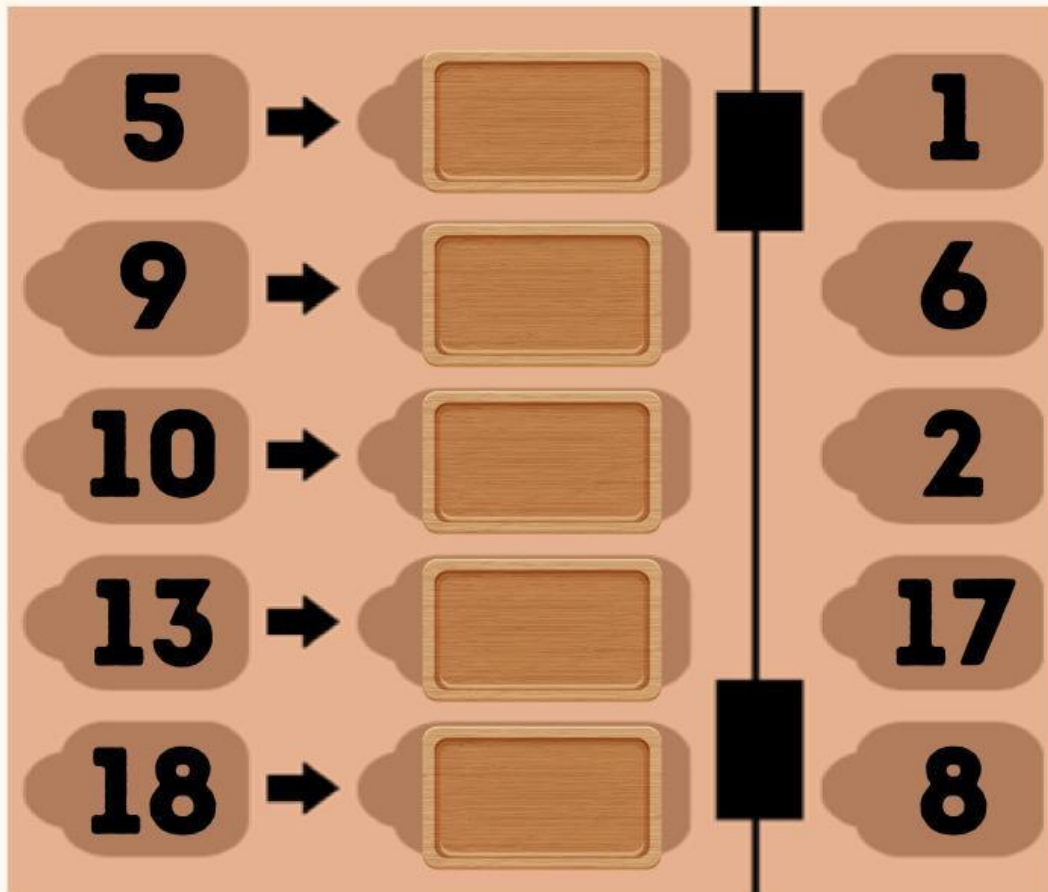




AKTIVITAS 2

Aktivitas dengan menggunakan Puzzle Angka.

Guru akan menyusun puzzle angka seperti berikut.



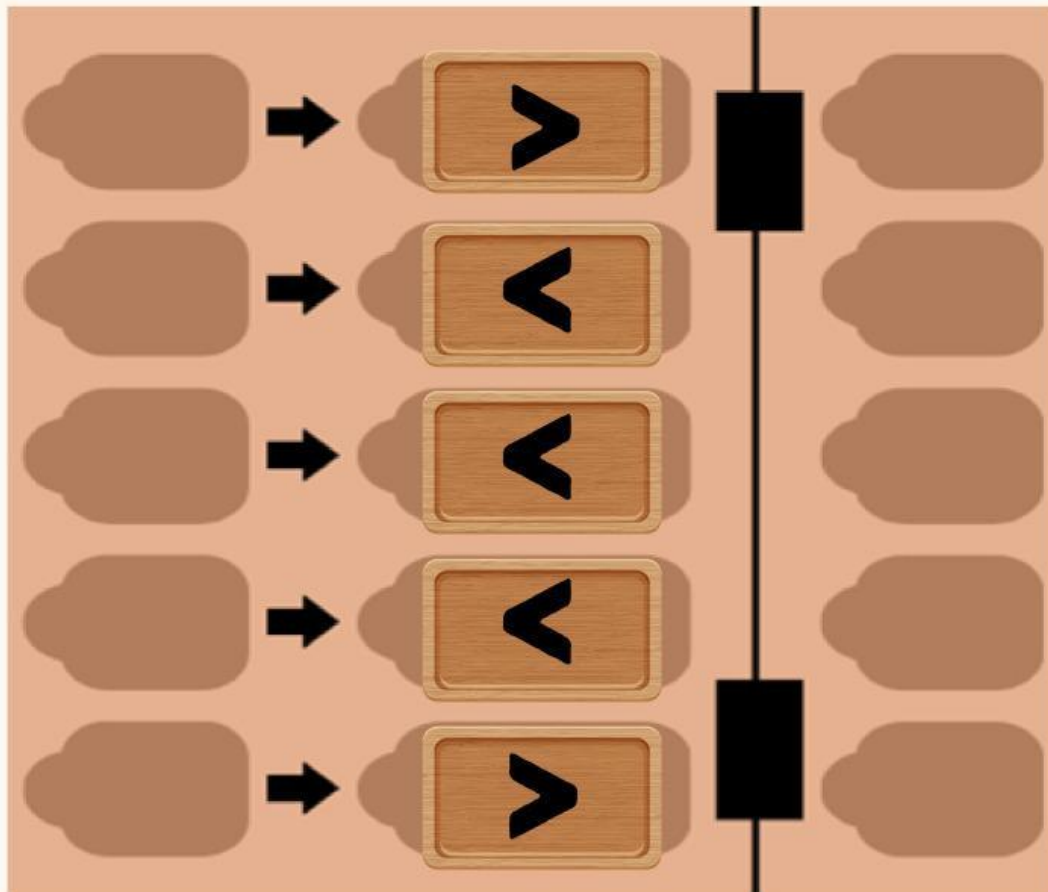
Isikan kotak di tengah dengan tanda < atau > yang tersedia di Puzzle Angka. Kemudian tuliskan juga hasilnya pada kotak tersebut!





Aktivitas dengan menggunakan Puzzle Angka.

Guru akan menyusun puzzle angka seperti berikut.



Pilih angka yang sesuai untuk mengisi kotak di sebelah kanan dan kiri tanda $<$ atau $>$ yang tersedia di Puzzle Angka. Kemudian tuliskan juga hasilnya pada kotak diatas!

