

სადიაგნოსტიკო წერა

1. შეასრულე მოქმედებები:

$5+7=$

$10-7=$


$8+12=$

$35-4=$

$42+3=$

$57-6=$

2. მიუწერე ფიგურებს სახელები








3. შეავსე ცხრილი



საგანი								
რაოდენობა								

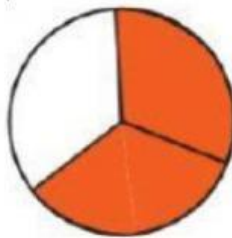
4. დაწერე ფიგურის რა ნაწილია გაფერადებული



—



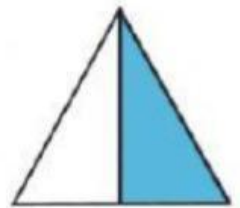
—



—



—



—

5. შეასრულე მოქმედებები

$\frac{1}{8} + \frac{4}{8} = \text{--}$

$\frac{9}{24} - \frac{5}{24} = \text{--}$

$\frac{14}{25} + \frac{5}{25} = \text{--}$

$\frac{35}{70} - \frac{8}{70} = \text{--}$

$\frac{25}{32} + \frac{6}{32} = \text{--}$

$\frac{17}{55} - \frac{7}{55} = \text{--}$