

Tugas Akhir Semester Genap Matematika Kelas 5 (STATISTIKA)

A. Berilah tanda centang pada jawaban yang benar

Macam Macam Cara Penyajian Data

Diagram Garis

Diagram Balok

Diagram Lingkaran

Diagram Gambar

Diagram Persegi


Tabel

Diagram segitiga

Diagram Batang

B. Pasangkan dengan jawaban yang tepat

Contoh Diagram



Nama Diagram

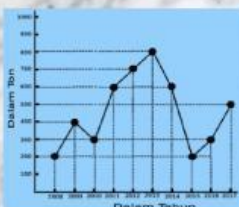
Diagram Garis



Diagram Lingkaran



Diagram Batang



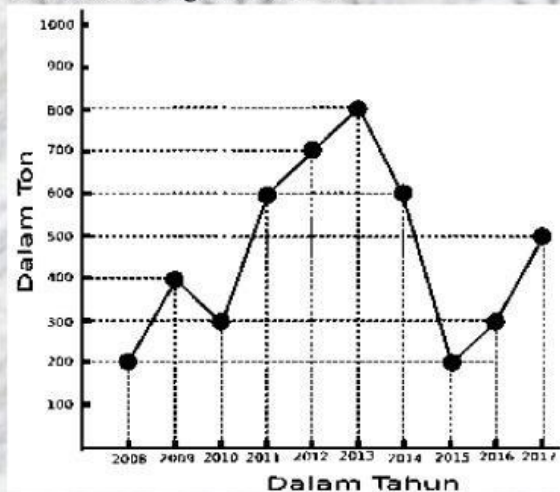
Tabel

Berat Badan (kg)	Frekuensi
40	3
41	6
42	7
43	9

Diagram Lingkaran

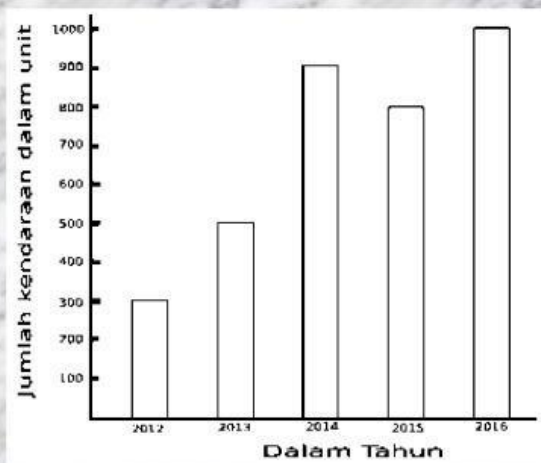
C. Isilah dengan jawaban yang benar

1. Perhatikan diagram berikut



1. Jumlah hasil panen pada tahun 2013 adalah
2. Jumlah hasil panen dari tahun 2008 – 2011
3. Kenaikan hasil panen tertinggi terjadi pada tahun
4. Penurunan hasil panen terbanyak terjadi pada tahun
5. Jumlah kenaikan hasil panen pada tahun 2011 adalah

2. Perhatikan diagram berikut



6. Jumlah kendaraan terjual tahun 2013
7. Jumlah kendaraan terjual dari tahun 2012 – 2014
8. Kenaikan hasil penjualan tertinggi terjadi pada tahun
9. Penurunan hasil penjualan terjadi pada tahun
10. Jumlah kenaikan penjualan pada tahun 2014 adalah

3. Perhatikan diagram berikut

Tahun	Banyak Panen (ton)
2010	
2011	
2012	
2013	
2014	

Keterangan :  Mewakili 15 ton

11. Jumlah panen jagung tahun 2012
12. Jumlah panen jagung dari tahun 2012 – 2014
13. Jumlah panen jagung dari tahun 2010 – 2012
14. Selisih jumlah panen 2010 dan 2014
15. Jumlah hasil panen jagung 2010 sd 2014 ...