

Nama Siswa :

No. Absen :

Kelas : 1 (SATU)

Pilihlah jawaban yang paling tepat !

1. Hasil Ujian Matematika

Nilai	Banyak siswa
5	
6	
7	
8	
9	

Dari tabel di atas dapat diketahui bahwa

- a. ada 3 siswa yang mendapat nilai 5 b. ada 6 siswa yang mendapat nilai 7
c. ada 4 siswa yang mendapat nilai 8 d. ada 4 siswa yang mendapat nilai 9

2. Perhatikan tabel berikut!

Bulan	Jumlah Produksi Minyak Bumi
Oktober 2019	
November 2019	
Desember 2019	
Januari 2020	
Februari 2020	
Maret 2020	
April 2020	

Produksi minyak bumi paling sedikit terjadi pada

- a. Oktober 2019 b. Desember 2019
c. Januari 2020 d. Maret 2020

3. Ada 8 gelas di meja dan 6 gelas di kursi, maka jumlah seluruh gelas ada

- a. 11 b. 12
c. 13 d. 14

4. Perhatikan gambar berikut!



Hasil penjumlahan dari gambar di atas adalah


- a. 14
- b. 15
- c. 16
- d. 17

5. Perhatikan gambar berikut!



Jika ada 17 anak bermain di taman, sedangkan 9 anak pulang. Maka jumlah anak yang masih bermain di taman adalah

- a. 7 anak
 - b. 8 anak
 - c. 9 anak
 - d. 10 anak
6. Perhatikan gambar berikut!



Jika tanda merah artinya telah dimakan, maka telur yang tersisa sebanyak

- a. 6
- b. 7
- c. 8
- d. 9

7. Perhatikan gambar berikut!



Jika Rosa berada diurutan ke-9 di belakang Ivan, dan Ernest berada diurutan ke-7 di depan Rosa. Maka jika dihitung dari depan Ernest berada diurutan ke....

- a. 6
- b. 7
- c. 8
- d. 9

8. Hasil dari $17 - 5 - 4 = \dots$?

- a. 6
- b. 7
- c. 9
- d. 8

9. (Bab 13 Membandingkan Ukuran)


Perhatikan gambar di bawah ini!



Botol yang paling tinggi berwarna

- a. biru
- b. kuning
- c. ungu
- d. hijau

10. Perhatikan gambar di bawah ini!



Pernyataan yang sesuai dengan gambar di atas adalah

- | | |
|---|--|
| a. pensil dan uang logam memiliki panjang yang sama | b. ukuran uang logam lebih panjang daripada pensil |
| c. ukuran pensil lebih panjang dari pada uang logam | d. pensil dan uang logam memiliki berat yang sama |

11. Renata sedang membaca buku setebal 50 halaman. Apabila Renata telah membaca 27 halaman. Maka untuk untuk mencapai 50 halaman Renata harus membaca lagi sebanyak

- | | |
|---------------|---------------|
| a. 22 halaman | b. 23 halaman |
| c. 24 halaman | d. 25 halaman |

12. Perhatikan gambar berikut!



Jika ketiga uang logam dijumlahkan maka nilainya adalah

- | | |
|--------------|--------------|
| a. 15 rupiah | b. 30 rupiah |
| c. 25 rupiah | d. 35 rupiah |

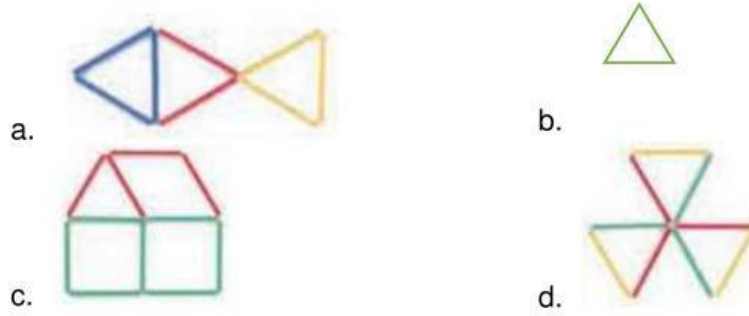
13. Perhatikan gambar di bawah ini!



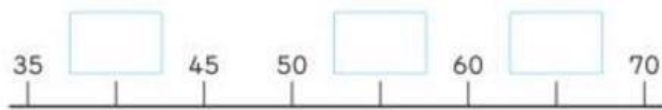
Nama bentuk bangun diatas adalah

- | | |
|--------------|---------------|
| a. persegi | b. segi tiga |
| c. lingkaran | d. segi empat |

14. Dari gambar berikut, manakah yang memiliki segi empat paling banyak



15. Perhatikan gambar di bawah ini!



Angka yang tepat untuk mengisi kotak kosong di atas adalah

- | | |
|---------------|---------------|
| a. 45, 50, 75 | b. 50, 60, 70 |
| c. 40, 50, 60 | d. 40, 55, 65 |