



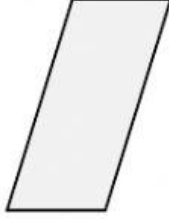


اسم التلميذ:

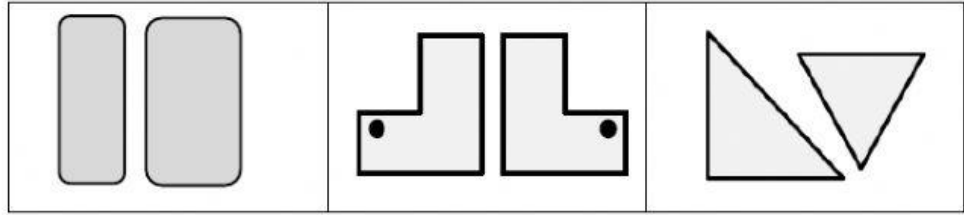
الصف: رابع ف

نشاط مراجعة لدروس الفصل الثامن و التاسع

س ١: حدد إذا كان كل شكل مما يلي مضلع أم غير مضلع




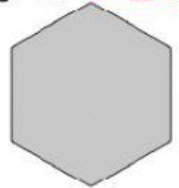
س ٦: اختر الشكلين المتطابقين بين الأشكال التالية المتطابقة في كل مما يلي :



س ٢: صل كل شكل مما يلي باسمه

سداسي

خماسي




س ٣: اسحب الاسم المناسب لكل شكل من الأشكال الرباعية:

مربع

معين

شبه منحرف

مستطيل



مديرة المدرسة :
أ. هالة المران

المديرة المساعدة :
أ.مريم العثمان

منسقة المادة :
أ. فاطمة مكّي

إعداد :
أ.معصومة الخياط