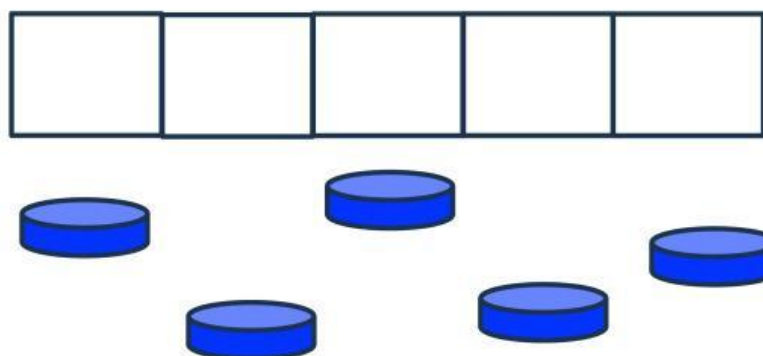




Observa el video y contesta.

NOMBRE: \_\_\_\_\_ GRUPO: \_\_\_\_\_

1. Arrastra las fichas y forma un grupo de 5.





2. Escribe cuántos estrellas hay en total.




Respuesta

3. Une con líneas el grupo de estrellitas con su número. Toma en cuenta que sobra un número



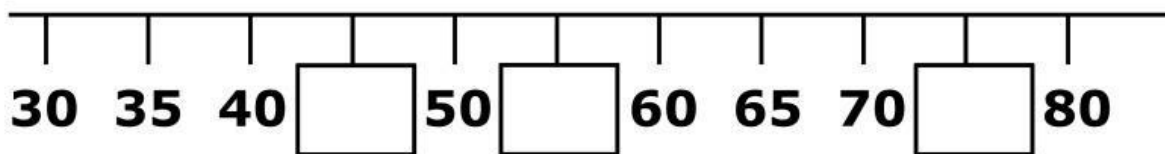
5

20

15

10

4. Escribe los números que faltan en la siguiente recta que va de 5 en 5:



5. Escribe una numeración de 5 en 5 que inicie en el 50 y termine en el 100.

[illegible]

6. ¿Cuántas estrellas faltan para completar 30?



### Respuesta